

# ÉLÉMENTS DE THÉORIE DES GRAPHS QUELQUES EXERCICES D'APPLICATION (AVEC SOLUTIONS)

*Le but principal de cette série d'exercices est de servir de « source d'inspiration ».  
Bon nombre de ces exercices peuvent être à l'origine de toute une « famille » d'exercices  
que l'enseignant n'aura aucun mal à « générer »...*

*Les exercices (ou questions) sont classés par niveau de difficulté :  
(o) facile (oo) assez facile (ooo) difficile*

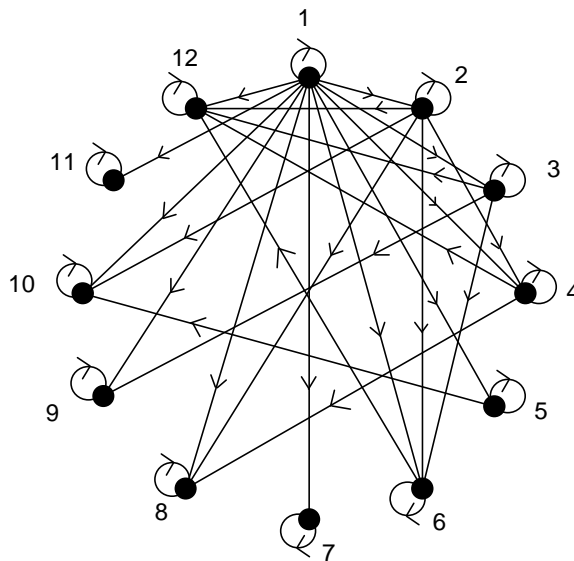
*Il est possible que certaines des solutions comportent des erreurs, de frappe ou  
d'inattention... Merci au lecteur attentif de me les signaler...*

## 1. NOTIONS DE BASE

### 1.1. Modélisation

**Exercice 1. (o)** Construire un graphe orienté dont les sommets sont les entiers compris entre 1 et 12 et dont les arcs représentent la relation « être diviseur de ».

**Solution Exercice 1.** Aucune difficulté particulière (ne pas oublier les boucles)...

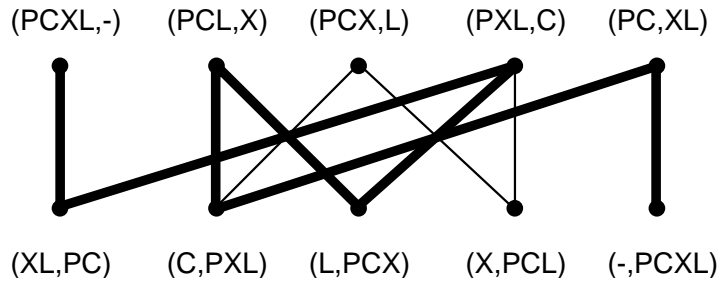


**Exercice 2. (oo)** Une chèvre, un chou et un loup se trouvent sur la rive d'un fleuve ; un passeur souhaite les transporter sur l'autre rive mais, sa barque étant trop petite, il ne peut transporter qu'un seul d'entre eux à la fois. Comment doit-il procéder afin de ne jamais laisser ensemble et sans surveillance le loup et la chèvre, ainsi que la chèvre et le chou ?

**Solution Exercice 2.** Cette situation peut être modélisée à l'aide d'un graphe. Désignons par P le passeur, par C la chèvre, par X le chou et par L le loup. Les sommets du graphe sont des couples précisant qui est sur la rive initiale, qui est sur l'autre rive. Ainsi, le couple (PCX,L) signifie que le passeur est sur la rive initiale avec la chèvre et le chou (qui sont donc sous surveillance), alors que le loup est sur l'autre rive. Une arête relie deux sommets lorsque le passeur peut passer (sic) d'une situation à l'autre. En transportant la chèvre, le passeur passe par exemple du sommet (PCX,L) au sommet (X,PCL). Le graphe ainsi obtenu est biparti : les sommets pour lesquels le passeur est sur la rive initiale ne sont reliés qu'aux sommets pour lesquels le passeur est sur l'autre rive...

Naturellement, on ne considèrera pas les sommets dont l'une des composantes est CX ou LC car ces situations sont interdites.

Il suffit ensuite de trouver un chemin (le plus court par exemple) entre la situation initiale (PCXL,-) et la situation finale souhaitée (-,PCXL). La figure suivante donne un tel chemin :



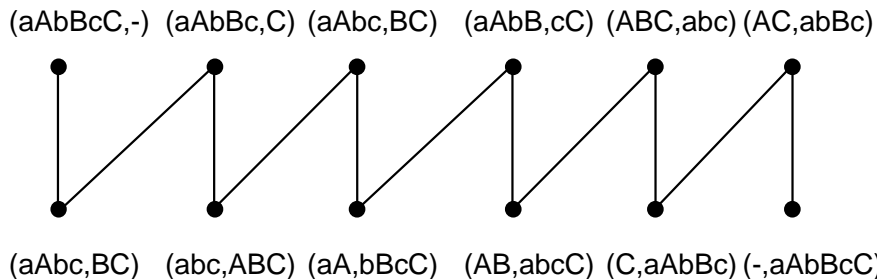
**Exercice 3. (oo)** Trois maris jaloux et leurs épouses souhaitent traverser une rivière. Ils disposent d'une barque qui ne peut transporter plus de deux personnes à la fois. Comment doivent-ils procéder, sachant qu'aucune femme ne doit rester en compagnie d'un ou deux hommes sans que son mari soit présent ?

Montrez que ce problème n'a pas de solution si les couples sont au nombre de 4.

**Solution Exercice 3.** La solution est donnée dans les vers suivants :

*« It duplex mulier, nedit una, vehit que manentem ;  
Itque una, utuntur tunc duo puppe viri.  
Par vadit, redeunt bini ; mulierque so rorem  
Ad vehit ; ad propriam sive maritus abit. »*

Pour les non latinistes, il est possible d'utiliser le même principe que dans l'exercice précédent, en notant A, B et C les femmes, a, b et c les maris. On obtient encore un graphe biparti, selon que la barque est sur une rive ou sur l'autre. Le schéma suivant propose une solution parmi d'autres (le graphe n'est pas représenté en totalité)...

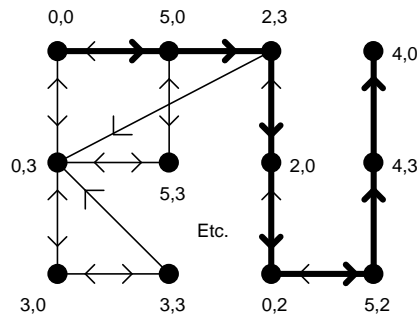


Dans le cas où quatre couples sont sur la berge, les sommets (aAbBcCdD,-) et (-,aAbBcCdD) sont dans des composantes connexes distinctes. Il n'existe donc pas de chemin de l'un à l'autre et le problème n'a pas de solution (on peut vérifier que dans la composante connexe du sommet d'arrivée, seuls figurent des sommets correspondant à un seul mari sur la rive initiale)...

À titre d'exercice supplémentaire, on peut voir que le problème des 4 maris jaloux a une solution s'il existe une île au milieu de la rivière permettant de déposer certaines personnes ou si la barque peut transporter trois personnes.

**Exercice 4. (oo)** On souhaite prélever 4 litres de liquide dans un tonneau. Pour cela, nous avons à notre disposition deux récipients (non gradués !), l'un de 5 litres, l'autre de 3 litres... Comment doit-on procéder ?

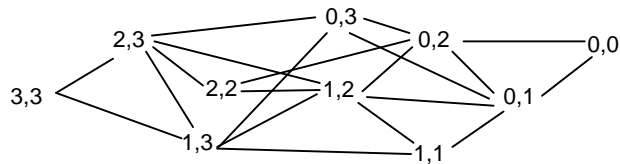
**Solution Exercice 4.** Toujours le même principe. Les sommets sont cette fois des couples donnant le contenu du récipient de 5 litres et celui du récipient de 3 litres. On place un arc entre deux sommets lorsqu'on peut passer d'une configuration à l'autre. On cherche alors un chemin du sommet 0,0 au sommet 4,0... La figure suivante montre un tel chemin (le graphe n'est pas représenté en entier...)



**Exercice 5.** (Jeu de Fan Tan) Deux joueurs disposent de 2 ou plusieurs tas d'allumettes. A tour de rôle, chaque joueur peut enlever un certain nombre d'allumettes de l'un des tas (selon la règle choisie). Le joueur qui retire la dernière allumette perd la partie.

- ◆ (o) Modéliser ce jeu à l'aide d'un graphe dans le cas où l'on dispose au départ de deux tas contenant chacun trois allumettes, et où un joueur peut enlever une ou deux allumettes à chaque fois.
- ◆ (oo) Que doit jouer le premier joueur pour gagner la partie à coup sûr ?
- ◆ (oo) Mêmes questions avec 3 tas de 3 allumettes.

**Solution Exercice 5.** Le jeu avec 2 tas de trois allumettes est décrit par le graphe suivant (tous les arcs sont orientés de gauche à droite) :



Le joueur qui atteint la configuration 0,0 perd la partie. Pour gagner, on doit donc atteindre la configuration 0,1 ou 0,2. On peut vérifier qu'en jouant 1,3 au premier coup, quelle que soit la réponse de l'adversaire, on peut atteindre ensuite 0,1 ou 0,2. Le coup gagnant au départ est donc « enlever 2 allumettes dans un tas ».

Pour trois tas de trois allumettes, c'est simplement un peu plus long ;-)...

**Exercice 6.** Essayez d'exprimer (et non nécessairement de résoudre...) en termes de graphes les problèmes suivants :


- ◆ (o) Peut-on placer huit dames sur un échiquier sans qu'aucune d'elles ne puisse en prendre une autre ?
- ◆ (o) Un cavalier peut-il se déplacer sur un échiquier en passant sur chacune des cases une fois et une seule ?
- ◆ (o) Combien doit-on placer de dames sur un échiquier 5x5 afin de contrôler toutes les cases ?

**Solution Exercice 6.** Pour chacune de ces questions, on construit un graphe dont les sommets représentent les cases de l'échiquier. Les arêtes sont alors définies ainsi :

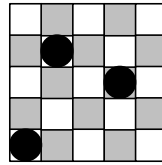
- 1 et 3 : une arête relie deux cases si une dame placée sur l'une contrôle l'autre,
- 2 : une arête relie deux cases si un cavalier placée sur l'une peut se rendre sur l'autre.

Les 3 problèmes s'expriment alors ainsi en terme de graphes :

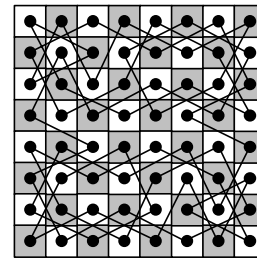
- 1 : Trouver un ensemble maximal de sommets tels qu'il n'existe aucune arête entre ces sommets (un tel ensemble est dit *indépendant*).
- 2 : Trouver un chemin *hamiltonien* (c'est-à-dire un chemin passant une et une seule fois par chacun des sommets).
- 3 : Trouver un ensemble minimal de sommets tel que tout sommet appartient à cet ensemble ou est relié par une arête à au moins l'un des sommets de cet ensemble (un tel ensemble est dit *dominant*).



Problème des 8 Dames



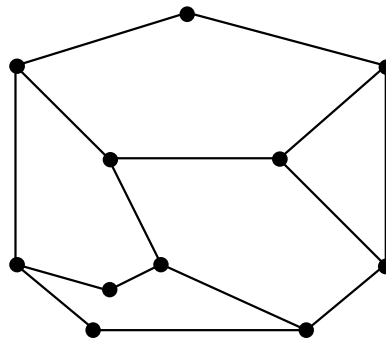
Dames sur échiquier 5x5



Parcours du cavalier

La figure ci-dessus donne une solution pour chacun de ces trois problèmes. Le parcours du cavalier présenté est en fait un cycle hamiltonien (le cavalier retourne à son point de départ).

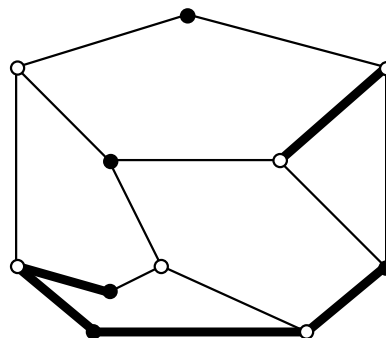
**Exercice 7. (o)** Le graphe ci-dessous représente le plan des couloirs d'un musée. Un gardien placé dans un couloir peut surveiller les deux carrefours placés à ses extrémités. Combien de gardiens sont nécessaires (et comment les placer) afin que tous les carrefours soient surveillés ?



Si l'on place maintenant les gardiens aux carrefours, en supposant qu'un tel gardien peut surveiller tous les couloirs amenant à ce carrefour, combien de gardiens sont nécessaires pour surveiller tous les couloirs ?

**Solution Exercice 7.** 1. Chaque gardien va être placé sur une arête et pourra surveiller deux carrefours (sommets). Le graphe ayant 11 sommets, il faudra au minimum 6 gardiens. Il faut donc trouver un ensemble (minimal) d'au moins six arêtes, tel que tout sommet est incident à au moins l'une de ces arêtes. Le schéma ci-dessous donne une solution (arêtes épaisses).

2. Cette fois, les gardiens sont sur les sommets et surveillent les arêtes. Il faut trouver un ensemble minimal de sommets tel que toute arête est incidente à au moins l'un de ces sommets. On constate rapidement que tout cycle de longueur 5 doit avoir 3 sommets dans cet ensemble... Le schéma ci-dessous donne une solution utilisant 6 sommets (sommets blancs).

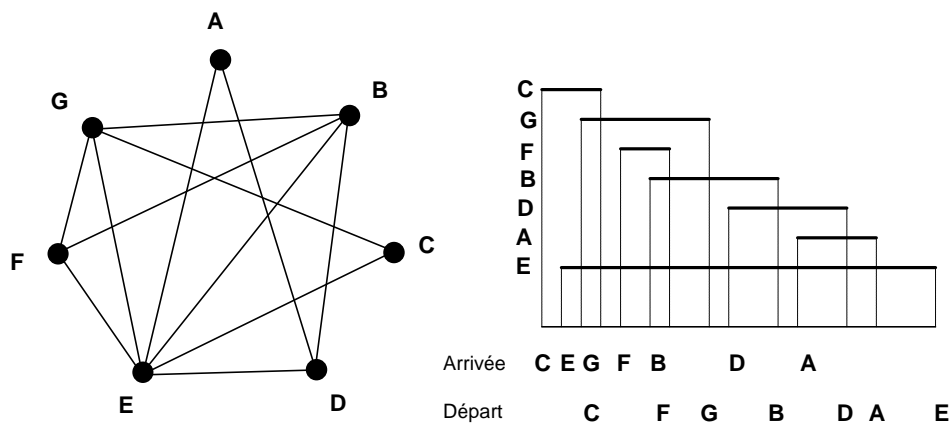


**Exercice 8. (oo)** Sept élèves, désignés par A,B,C,D,E,F et G se sont rendus à la bibliothèque aujourd'hui. Le tableau suivant précise « qui a rencontré qui » (la bibliothèque étant petite, deux élèves présents au même moment se rencontrent nécessairement...).

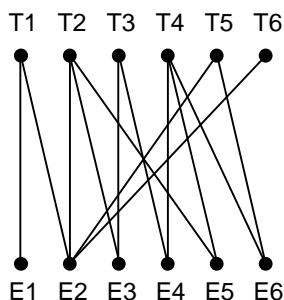
- ◆ Quel est l'ordre d'arrivée des élèves à la bibliothèque ?
- ◆ leur ordre de départ ?

élève	A	B	C	D	E	F	G
a rencontré	D,E	D,E,F,G	E,G	A,B,E	A,B,C,D,F,G	B,E,G	B,C,E,F

**Solution Exercice 8.** Le premier travail consiste à dessiner le « graphe des rencontres ». Ce graphe est ce que l'on appelle un *graphe d'intervalles* : chaque sommet est associé à un intervalle (le temps de présence de l'élève dans la bibliothèque) et deux sommets sont reliés lorsque les intervalles s'intersectent (les élèves se sont croisés). Pour notre exemple, plusieurs solutions sont alors possibles, chacune pouvant donner des ordres d'arrivée et de départ différents. Le schéma suivant en fournit une...

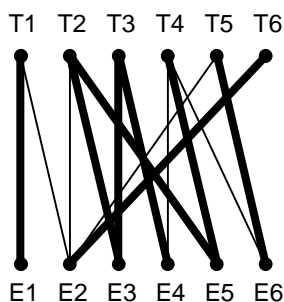


**Exercice 9. (o)** Dans le graphe biparti suivant, les sommets T1, ..., T6 représentent des travailleurs et les sommets E1, ..., E6 des emplois. Une arête relie un travailleur à un emploi si le travailleur a les qualifications nécessaires pour occuper cet emploi.



Comment affecter les emplois aux travailleurs afin de minimiser le nombre de sans-emploi ?

**Solution Exercice 9.** Affecter un emploi à une personne revient à « sélectionner » une arête. Chaque personne ne pouvant occuper qu'un seul emploi, et un emploi ne pouvant être occupé que par une seule personne, il faut donc sélectionner un nombre maximal d'arêtes de façon telle que ces arêtes n'ont aucun sommet commun (un tel ensemble est qualifié de *stable maximal*). Le schéma ci-dessous donne un tel ensemble (arêtes épaisses) composé de 6 arêtes...



**Exercice 10. (ooo)** Chaque jour, un groupe de 12 enfants fait une promenade, par rang de deux. Combien de jours peuvent-ils se promener si l'on souhaite qu'un enfant n'ait jamais deux fois le même voisin ? Et si maintenant la promenade se fait par rang de trois ?

**Solution Exercice 10.** Considérons le graphe complet  $K_{12}$  à 12 sommets, chaque sommet représentant un enfant. Le nombre d'arêtes de ce graphe est  $12 \times 11 / 2 = 66$ . Une promenade correspond à un ensemble de 6 arêtes non incidentes : chaque arête représente un rang (deux enfants) et chaque enfant ne peut appartenir qu'à un seul rang lors d'une promenade. Ainsi, le nombre maximum de promenades est 11. Une solution possible pour ces 11 promenades est la suivante (les enfants, ou sommets, sont désignés par 1,2,...,12) :

- |                                 |                                 |
|---------------------------------|---------------------------------|
| 1-2, 3-12, 4-11, 5-10, 6-9, 7-8 | 2-3, 12-4, 11-5, 10-6, 9-7, 8-1 |
| 1-3, 4-2, 5-12, 6-11, 7-10, 8-9 | 3-4, 2-5, 12-6, 11-7, 10-8, 9-1 |
| 1-4, 5-3, 6-2, 7-12, 8-11, 9-10 | 4-5, 3-6, 2-7, 12-8, 11-9, 10-1 |
| 1-5, 6-4, 7-3, 8-2, 9-12, 10-11 | 5-6, 4-7, 3-8, 2-9, 12-10, 11-1 |
| 1-6, 7-5, 8-4, 9-3, 10-2, 11-12 | 6-7, 5-8, 4-9, 3-10, 2-11, 12-1 |
| 1-7, 2-12, 3-11, 4-10, 5-9, 6-8 |                                 |

Les cinq premières « paires » de promenades sont obtenues en découpant de deux façons complémentaires un cycle à 12 sommets (pour la première ligne, il s'agit du cycle 1,2,3,12,4,11,5,10,6,9,7,8,1). La dernière ligne est composée des 6 arêtes restantes.

Considérons maintenant le cas des rangs de trois. Chaque rang correspond alors à un triangle dans  $K_{12}$  et chaque promenade à un ensemble de 4 triangles « disjoints ». Cette fois, une promenade utilise  $4 \times 3 = 12$  arêtes et le nombre maximum de promenades est 5...

Je n'ai pas de solution « sous la main ».... Je publierai donc la première solution qui me parviendra... ;-)

**Exercice 11. (oo)** Soit  $X$  un ensemble de lapins, et  $G$  un graphe orienté ayant  $X$  pour ensemble de sommets. On dit que  $G$  est un « graphe de parenté » si les arcs de  $G$  codent la relation « être l'enfant de »... Quelles conditions doit nécessairement vérifier  $G$  pour pouvoir être un graphe de parenté ?

**Solution Exercice 11.** Voici une liste de conditions nécessaires :

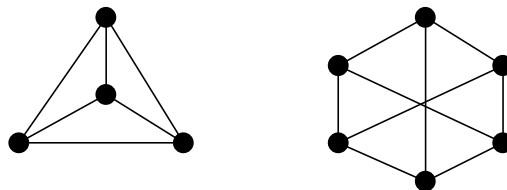
- Chaque sommet doit avoir un degré entrant égal à 2 (chaque lapin a deux parents) à l'exception de deux sommets pour lesquels le degré entrant est nul (ces sommets correspondent aux « Adam » et « Ève » de notre groupe de lapins...).
- Le graphe doit être sans circuit (on dit également *acyclique*). En effet, un lapin ne peut avoir pour parent l'un de ses descendants...
- On doit pouvoir colorier les sommets de ce graphe en deux couleurs (male et femelle), de façon telle que tout sommet de degré entrant égale à 2 possède un prédécesseur male et un prédécesseur femelle.
- Il est possible que d'autres conditions soient nécessaires mais ma connaissance du mécanisme de reproduction chez les lapins ne me permet pas d'aller plus loin... (nombre de portées possibles, nombre de petits lapins par portée, etc.)

## 1.2. Degré des sommets

**Exercice 12.** On s'intéresse aux graphes dont tous les sommets sont de degré trois.

- ♦ (o) Construisez de tels graphes ayant 4 sommets, 5 sommets, 6 sommets, 7 sommets.
- ♦ (o) Qu'en déduisez-vous ?
- ♦ (oo) Prouvez-le !

**Solution Exercice 12.** Les graphes dont tous les sommets sont de degré trois sont appelés graphes 3-réguliers ou graphes cubiques. La figure ci-dessous montre deux graphes cubiques, ayant respectivement 4 et 6 sommets. En effet, on constate aisément qu'il n'existe pas de graphes cubiques ayant un nombre impair de sommets : le nombre d'arêtes d'un graphe cubique à  $n$  sommets est  $3n/2$  qui n'est entier que lorsque  $n$  est pair.



**Exercice 13. (o)** La situation est-elle identique pour les graphes dont tous les sommets sont de degré 4 ?

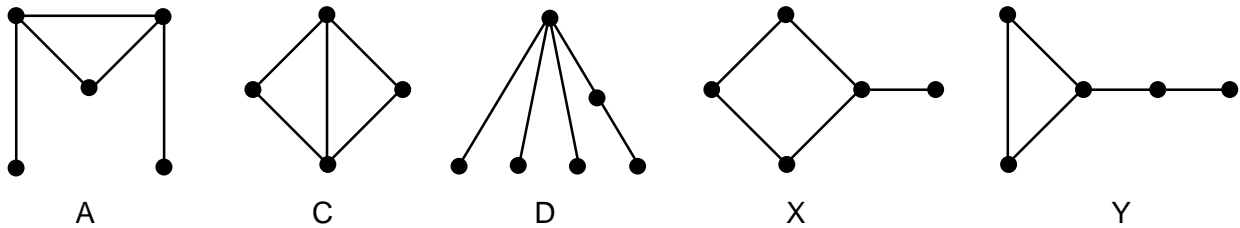
**Solution Exercice 13.** Cette fois, le nombre d'arêtes d'un tel graphe est  $4n/2 = 2n$  si  $n$  est le nombre de sommets. De tels graphes existent toujours... dès que  $n$  est au moins égal à 5 !  
 Considérons par exemple le graphe dont les sommets sont les entiers de 0 à  $n-1$  (avec  $n \geq 5$ ) et les arêtes les paires de sommets  $i, j$  telles que  $j = i+1$  ou  $j = i+2$  (modulo  $n$ ). On vérifie aisément que ces graphes sont 4-réguliers (tout sommet  $i$  est relié à  $i-2, i-1, i+1$  et  $i+2$ , toujours modulo  $n$ ...).

**Exercice 14. (o)** Une suite décroissante (au sens large) d'entiers est *graphique* s'il existe un graphe dont les degrés des sommets correspondent à cette suite (par exemple, le triangle à trois sommets correspond à la suite 2,2,2). Les suites suivantes sont-elles graphiques ?

- a. 3, 3, 2, 1, 1
- b. 3, 3, 1, 1
- c. 3, 3, 2, 2
- d. 4, 2, 1, 1, 1, 1
- e. 5, 3, 2, 1, 1, 1
- f. 5, 4, 3, 1, 1, 1, 1

Trouvez deux graphes *distincts* (c'est-à-dire non isomorphes) correspondant à la suite 3, 2, 2, 2, 1.  
 [Deux graphes  $G1$  et  $G2$  sont isomorphes s'il existe une bijection  $f$  entre leurs ensembles de sommets qui préserve les arêtes ( $f(x)f(y)$  est une arête de  $G2$  si et seulement si  $xy$  est une arête de  $G1$ ). De façon plus intuitive, cela signifie que l'on peut « renommer » les sommets de  $G1$  de façon à obtenir  $G2$ ...]

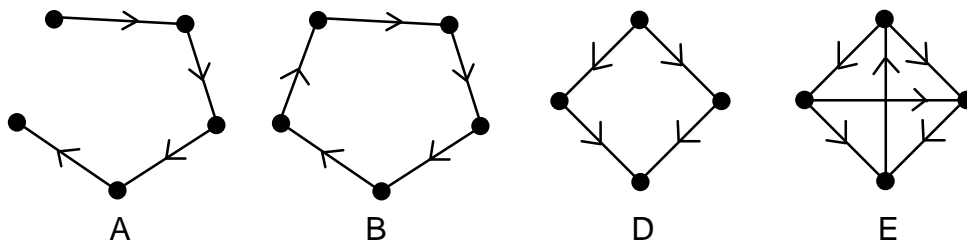
**Solution Exercice 14.** Les suites (3,3,2,1,1), (3,3,2,2) et (4,2,1,1,1,1) sont graphiques, comme le montrent les graphes A, C et D de la figure ci-dessous. Les graphes X et Y sont distincts et correspondent tous deux à la suite (3,2,2,2,1).



**Exercice 15. (o)** Pour les graphes orientés, il faut considérer des suites de couples d'entiers (le premier élément d'un couple correspond au degré entrant, le second au degré sortant). Les suites suivantes sont-elles des suites graphiques ?

- g. (0,1), (1,1), (1,1), (1,1), (1,0)
- h. (1,1), (1,1), (1,1), (1,1), (1,1)
- i. (0,2), (1,1), (1,1), (1,1)
- j. (0,2), (1,1), (1,1), (2,0)
- k. (1,2), (1,2), (2,1), (2,1)
- l. (1,2), (1,2), (2,1), (2,2), (1,1)

**Solution Exercice 15.** Nous savons que la somme des degrés entrants doit être égale à la somme des degrés sortants. Nous pouvons ainsi déjà éliminer les suites [(0,2),(1,1),(1,1),(1,1)] et [(1,2),(1,2),(2,1),(2,2),(1,1)]. Les suites [0,1),(1,1),(1,1),(1,1),(1,0)], [(1,1),(1,1),(1,1),(1,1),(1,1)], [(0,2),(1,1),(1,1),(2,0)] et [(1,2),(1,2),(2,1),(2,1)] sont graphiques, comme le montrent respectivement les graphes A, B, D et E ci-dessous.



**Exercice 16. (o)** Essayez de construire un graphe non orienté ayant au moins deux sommets et tel que tous les sommets ont des degrés distincts. Qu'en déduisez-vous ?

**Solution Exercice 16.** On s'aperçoit rapidement que c'est impossible. Ainsi, dans un graphe, il existe toujours deux sommets de même degré. La preuve de ce fait est donnée dans la solution de l'exercice 19.

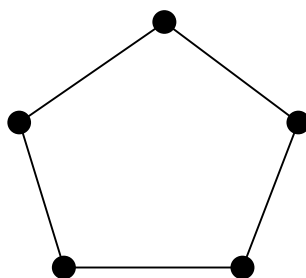
**Exercice 17. (oo)** Montrez que dans un groupe de six personnes, il y en a nécessairement trois qui se connaissent mutuellement ou trois qui ne se connaissent pas (on suppose que si A connaît B, B connaît également A).

Montrez que cela n'est plus nécessairement vrai dans un groupe de cinq personnes.

**Solution Exercice 17.** Supposons tout d'abord qu'il existe une personne, disons A, en connaissant trois autres, disons B, C et D, et considérons les relations entre B, C et D... Si deux d'entre elles se connaissent (par exemple B et C) alors elles forment avec A un trio de personnes se connaissant mutuellement. Dans le cas contraire, B, C et D forment un trio ne se connaissant pas.

Si aucune personne n'en connaît trois autres, on raisonne de façon symétrique en considérant la personne A et trois personnes qu'elle ne connaît pas : si ces trois personnes se connaissent mutuellement, c'est gagné. Sinon, deux personnes parmi ces trois ne se connaissant pas forment avec A un trio de personnes ne se connaissant pas...

Le graphe suivant montre que la situation est différente pour un groupe de cinq personnes (tout triplet de personnes contient 1 ou 2 arêtes)...



**Exercice 18. (ooo)** Montrez que dans un groupe de 9 personnes, 4 se connaissent mutuellement ou 3 ne se connaissent pas.

**(oo)** Cela est-il toujours vrai dans un groupe de 8 personnes ?

**Solution Exercice 18.** Un tel groupe sera représenté sous forme d'un graphe dont les sommets sont les personnes ; une arête reliera deux sommets correspondant à des personnes se connaissant. Supposons qu'il existe un groupe (graphe) de 9 personnes (sommets) n'ayant pas la propriété annoncée. Nous allons montrer que nous aboutissons nécessairement à une contradiction.

Prenons tout d'abord deux personnes se connaissant, disons A et B (si personne ne se connaît, nous avons un trio ne se connaissant pas). Les sept autres personnes peuvent alors être réparties en quatre groupes : G, le groupe des personnes ne connaissant ni A ni B ; GA, le groupe des personnes connaissant A mais ne connaissant pas B ; GB, le groupe des personnes connaissant B mais ne connaissant pas A ; GAB, le groupe des personnes connaissant A et B.

Que pouvons-nous dire de ces groupes de personnes ?

- G : ce groupe est nécessairement composé de personnes se connaissant mutuellement (sinon, deux personnes de ce groupe ne se connaissant pas formeraient avec A ou B un trio ne se connaissant pas). Ainsi, ce groupe contient au maximum 3 personnes (sinon nous avons un quatuor se connaissant mutuellement).
- GA : ce groupe est nécessairement composé de personnes se connaissant mutuellement (sinon, deux personnes de ce groupe ne se connaissant pas formeraient avec B un trio ne se connaissant pas). Ainsi, ce groupe contient au maximum 2 personnes (sinon nous avons avec A un quatuor se connaissant mutuellement).
- GB : de façon symétrique, ce groupe est nécessairement composé de personnes se connaissant mutuellement (sinon, deux personnes de ce groupe ne se connaissant pas formeraient avec A un trio ne se connaissant pas). Ainsi, ce groupe contient au maximum 2 personnes (sinon nous avons avec B un quatuor se connaissant mutuellement).
- GAB : ce groupe est nécessairement composé de personnes ne se connaissant pas (sinon, deux personnes de ce groupe se connaissant formeraient avec A et B un quatuor se connaissant mutuellement). Ce groupe contient donc au maximum deux personnes (sinon nous avons un trio ne se connaissant pas).



Examinons maintenant les relations entre ces quatre groupes...

- toutes les personnes de GB connaissent toutes les personnes de G (sinon une personne de GB et une personne de G ne se connaissant pas formeraient avec A un trio ne se connaissant pas). L'union de G et GB est donc un ensemble de personnes se connaissant mutuellement et sa taille est d'au plus 3 (sinon nous avons un quatuor se connaissant mutuellement).
- de façon symétrique, les personnes de G et GA se connaissent mutuellement et la taille de l'union de G et GA est d'au plus 3.

Fort de ces observations, on peut vérifier sans peine que la seule possibilité concernant les cardinalités de ces 3 groupes est la suivante :  $\text{card}(G) = 1$ ,  $\text{card}(GA) = 2$ ,  $\text{card}(GB) = 2$  et  $\text{card}(GAB) = 2$  (avec A et B, nous retrouvons bien nos 9 personnes...). Posons alors  $G = \{U\}$ ,  $GA = \{T1, T2\}$ ,  $GB = \{Z1, Z2\}$  et  $GAB = \{X, Y\}$ . Le schéma correspondant est donné ci-dessous, figure (a).

Considérons maintenant les relations entre GAB et GA, GB... Tout sommet de GA ou GB doit être relié à au moins un sommet de GAB (sinon nous avons un trio ne se connaissant pas). Par contre, les deux sommets de GA (ou de GB) ne peuvent être reliés au même sommet de GAB, sinon, ils formeraient avec A (ou B) un quatuor se connaissant mutuellement. Nous obtenons ainsi la figure (b) ci-dessous (du fait des symétries, une seule solution est possible).

Qu'en est-il des relations entre GA et GB ? Z1 est nécessairement voisin de T2, sinon Z1, T2 et X forment un trio ne se connaissant pas. De la même façon, Z2 est nécessairement voisin de T1 (voir figure (c)).

Pour conclure sur une contradiction, il nous reste à regarder les relations entre G et GAB... U est nécessairement relié à X ou Y, sinon U,X,Y serait un trio ne se connaissant pas. Si U est relié à X, alors X,U,T1 et Z2 forment un quatuor se connaissant mutuellement et si U est relié à Y, alors U,Y,T2 et Z1 forment un quatuor se connaissant mutuellement. Dans les deux cas, nous obtenons la contradiction recherchée...

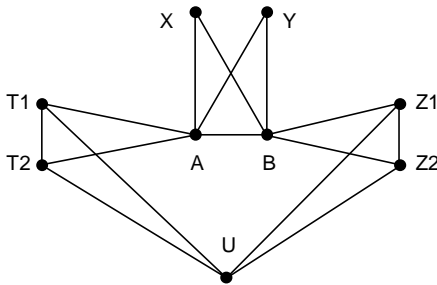


figure (a)

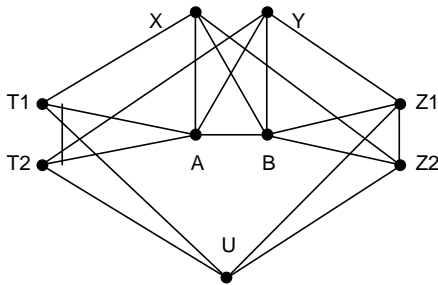


figure (b)

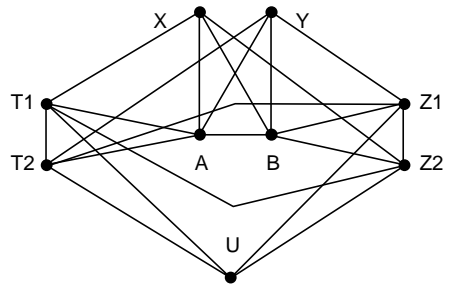
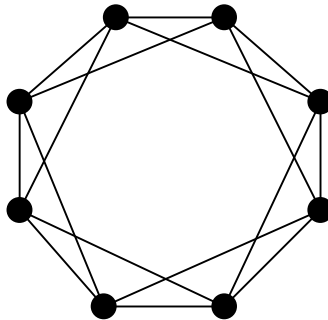


figure (c)

Le graphe suivant montre que la propriété n'est plus vérifiée pour un groupe de 8 personnes :



**Exercice 19. (oo)** Montrez que dans un groupe de personnes, il y a toujours deux personnes ayant le même nombre d'amis présents.

**Solution Exercice 19.** Construisons un graphe dont les sommets représentent les personnes et plaçons une arête entre deux sommets lorsque les personnes correspondantes sont amies. Dire que deux personnes ont le même nombre d'amis revient à dire que deux sommets dans le graphe ont même degré...

Nous allons montrer qu'il n'existe aucun graphe dont tous les sommets ont des degrés distincts. Supposons qu'un tel graphe existe et qu'il possède n sommets. Le degré maximal d'un sommet est donc n-1. Si tous les degrés des sommets sont distincts, on a donc nécessairement un sommet de degré 0, un sommet de degré 1, ..., un sommet de degré n-1. Du fait de la présence d'un sommet de degré 0, disons  $x_0$ , il est impossible d'avoir un sommet de degré n-1 ! (en effet, celui-ci devrait être relié à tous les autres, y compris  $x_0$ ). On obtient ainsi une contradiction.

**Exercice 20. (oo)** Un groupe de personnes est tel que

- (i) chaque personne est membre d'exactly deux associations,
- (ii) chaque association comprend exactement trois membres,
- (iii) deux associations quelconques ont toujours exactement un membre en commun.

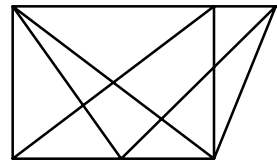
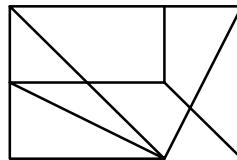
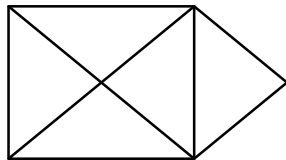
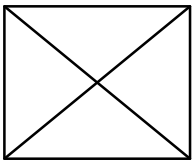
Combien y a-t-il de personnes ? d'associations ?

**Solution Exercice 20.** Supposons que nous avons  $n$  associations et considérons le graphe complet  $K_n$  dont les sommets représentent les associations (toute paire d'associations est donc reliée par une arête). Deux associations ayant toujours exactement un membre en commun, nous pouvons étiqueter l'arête reliant ces deux associations par le membre en question. Par ailleurs, chaque personne étant membre d'exactly deux associations, une même personne ne peut pas étiqueter deux arêtes distinctes (sinon elle appartiendrait à au moins trois associations). Les arêtes sont donc en bijection avec les personnes...

Finalement, chaque association comprenant exactement trois personnes, tous les sommets du graphe complet sont de degré 3. Il s'agit donc de  $K_4$  ! Le nombre d'associations est donc de 4 (nombre de sommets) et le nombre de personnes de 6 (nombre d'arêtes =  $4 \times 3 / 2$ ).

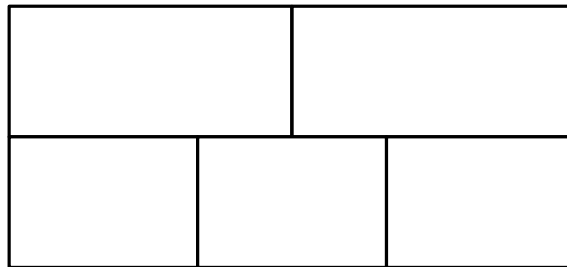
### 1.3. Graphes eulériens

**Exercice 21. (o)** Est-il possible de tracer les figures suivantes sans lever le crayon (et sans passer deux fois sur le même trait !...) ? Pourquoi ?



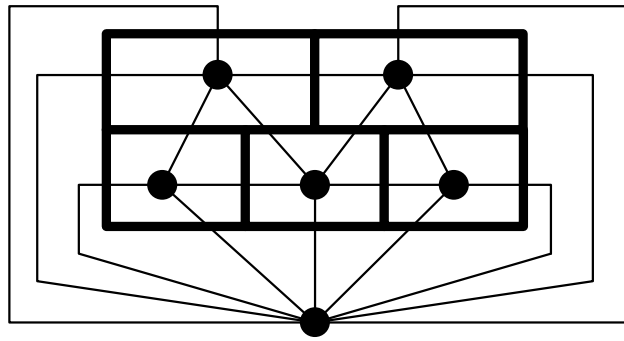
**Solution Exercice 21.** De tels tracés sont possibles si le graphe correspondant admet un chemin eulérien, c'est-à-dire s'il contient exactement 0 ou 2 sommets de degré impair. La réponse est donc positive uniquement pour la deuxième figure...

**Exercice 22. (o)** Est-il possible de tracer une courbe, sans lever le crayon, qui coupe chacun des 16 segments de la figure suivante ?



**Solution Exercice 22.** On peut associer un graphe à cette figure (en réalité un multigraphe car nous aurons des arêtes multiples) de la façon suivante : les sommets représentent les régions (y compris la région extérieure) et deux sommets sont reliés par autant d'arêtes que le nombre de segments communs de leurs régions (voir ci-dessous).

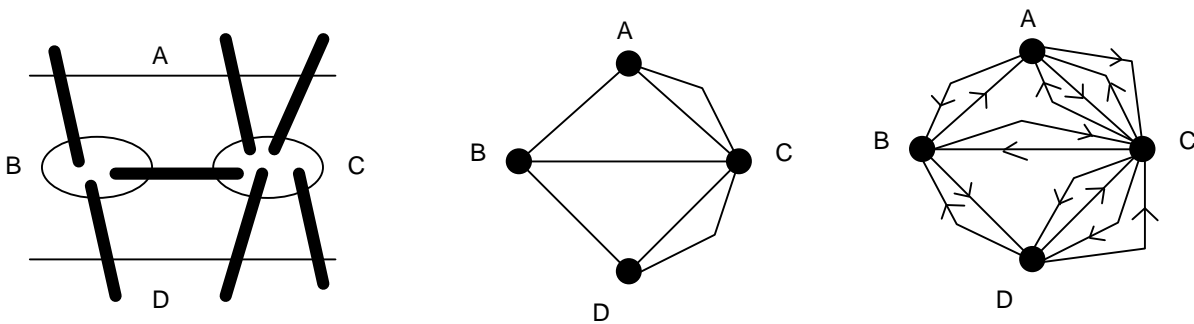
Le problème revient alors à effectuer un chemin eulérien dans ce graphe. Or, ce graphe contient 4 sommets de degré impair... c'est donc impossible.



**Exercice 23. (o)** Est-il possible de traverser les sept ponts de la ville de Koenigsberg en empruntant deux fois chaque pont, dans un sens puis dans l'autre ?

**Solution Exercice 23.** La figure suivante représente les ponts de Koenigsberg et le graphe non orienté associé au problème classique. Le problème consistant à emprunter deux fois chaque pont, dans un sens puis dans l'autre, revient à chercher un cycle eulérien dans le graphe orienté obtenu en modélisant chaque pont par deux arcs de directions opposées. On peut observer que le graphe orienté ainsi obtenu est tel que tout sommet possède un degré entrant égal à son degré sortant (cela est vrai pour tout graphe orienté obtenu à partir d'un graphe non orienté en remplaçant chaque arête par deux arcs de directions opposées...). Le graphe orienté est donc eulérien et le parcours suivant le prouve (les ponts, ou arcs, sont désignés par AB, BC, BD, AC1, AC2, CD1, CD2 dans un sens puis BA, DB, CD1, etc. dans l'autre sens) :

AB, BD, DC1, CA1, AC1, CD1, DB, BA, AC2, CB, BC, CD2, DC2, CA2



**Exercice 24. (oo)** Soit  $G$  un graphe non eulérien. Est-il toujours possible de rendre  $G$  eulérien en lui rajoutant un sommet et quelques arêtes ?

**Solution Exercice 24.** Pour qu'un graphe soit eulérien, il faut et il suffit que tous ses sommets soient de degré pair. Si un graphe contient  $k$  sommets impairs, il est possible de rajouter un nouveau sommet  $x$ , relié à ces  $k$  sommets. Dans le graphe obtenu, les  $k$  sommets considérés sont devenus pairs... Cependant, le degré de  $x$  étant  $k$ , le graphe n'est toujours pas eulérien si  $k$  était impair...

Remarquons qu'il est possible de rajouter des arêtes entre les sommets de degré impair dans le graphe d'origine... Mais l'ajout d'une telle arête, entre deux sommets impairs  $a$  et  $b$  par exemple, fait que le nombre de sommets impairs devient  $k-2$ , qui a la même parité que  $k$ ...

La réponse est donc : ce n'est possible que si le nombre de sommets impairs est pair...

**Exercice 25.** On considère des dominos dont les faces sont numérotées 1, 2, 3, 4 ou 5.

- ◆ (o) En excluant les dominos doubles, de combien de dominos dispose-t-on ?
- ◆ (oo) Montrez que l'on peut arranger ces dominos de façon à former une boucle fermée (en utilisant la règle habituelle de contact entre les dominos).
- ◆ (o) Pourquoi n'est-il pas nécessaire de considérer les dominos doubles ?
- ◆ (oo) Si l'on prend maintenant des dominos dont les faces sont numérotées de 1 à  $n$ , est-il possible de les arranger de façon à former une boucle fermée ?

**Solution Exercice 25.** Les dominos sont au nombre de  $4 + 3 + 2 + 1 = (4 \times 5) / 2 = 10$  :  
1-2, 1-3, 1-4, 1-5, 2-3, 2-4, 2-5, 3-4, 3-5, 4-5

Considérons maintenant le graphe complet  $K_5$  à 5 sommets. Ce graphe possède 10 arêtes, chaque arête correspondant à une paire de sommets distincts... c'est-à-dire à un domino. Former une boucle fermée avec ces dominos revient donc à trouver un cycle eulérien (passant par toutes les arêtes, donc utilisant tous les dominos) dans  $K_5$ . Une solution possible est la suivante : 1-2, 2-3, 3-4, 4-5, 5-1, 1-3, 3-5, 5-2, 2-4, 4-1.

Les dominos doubles peuvent être insérés sans difficulté dans cette suite. En terme de graphes, les dominos doubles correspondent à une boucle sur un sommet et cette boucle peut être « parcourue » lorsqu'on atteint le sommet en question pour la première fois par exemple...

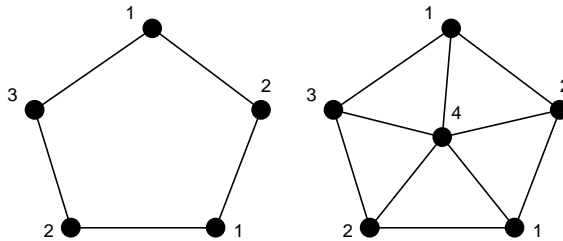
Si l'on considère le même problème avec des faces numérotées de 1 à  $n$ , on doit raisonner sur le graphe complet à  $n$  sommets. Or, nous savons qu'un graphe admet un cycle eulérien si et seulement si il est connexe et ne possède que des sommets de degré pair. Dans le cas des graphes complets, cela n'est vrai que si le nombre de sommets est impair...

## 2. PROBLÈMES DE COLORATION

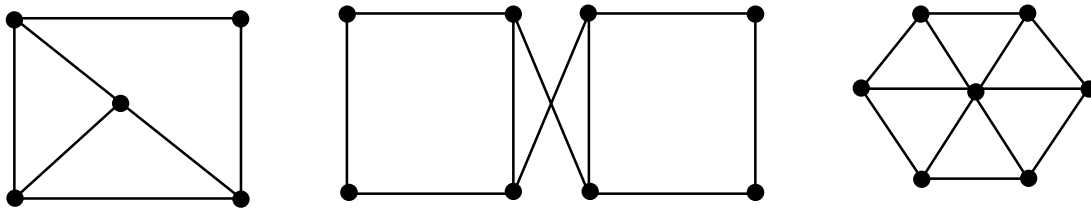
**Exercice 26.** Tout graphe contenant un triangle ( $K_3$ ) ne peut être colorié en moins de trois couleurs.

- ♦ (o) Construire un graphe sans triangle qui nécessite également trois couleurs.
- ♦ (o) Comment, à partir du graphe précédent, construire un graphe sans  $K_4$  nécessitant 4 couleurs ?
- ♦ (o) Un graphe sans  $K_5$  nécessitant 5 couleurs ?

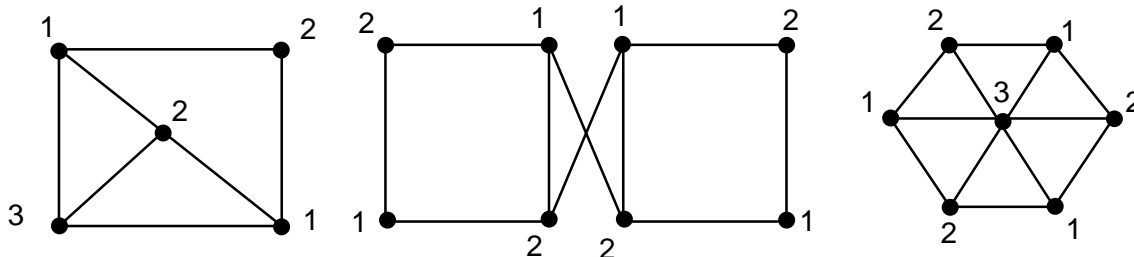
**Solution Exercice 26.** Il suffit de considérer par exemple un cycle ayant un nombre impair de sommets. Si l'on rajoute à ce graphe un sommet relié à tous les sommets du cycle, on obtient un graphe de nombre chromatique 4 ne contenant pas de  $K_4$ . On peut itérer cette construction de façon à obtenir, pour tout  $k$ , un graphe de nombre chromatique  $k$  ne contenant pas de  $K_k$ . Un résultat plus puissant, dû à Erdős, montre que pour tout  $k$ , il existe un graphe de nombre chromatique  $k$  sans triangle, et même sans cycle de longueur inférieure à un entier  $p$  donné, quel que soit  $p$ ...



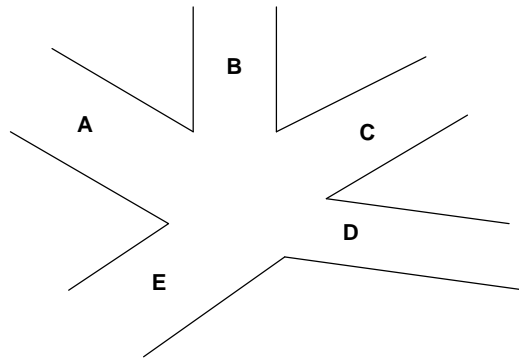
**Exercice 27.** (o) Déterminer le nombre chromatique des graphes suivants :



**Solution Exercice 27.** Les graphes suivants ont respectivement pour nombre chromatique 3, 2 et 3 :



**Exercice 28.** Le schéma suivant représente un carrefour.



Le tableau suivant précise les « franchissements » possibles de ce carrefour.

En arrivant par...	A	B	C	D	E
Il est possible d'aller en...	C,E	A,E,D	A,D	C,A	C,D

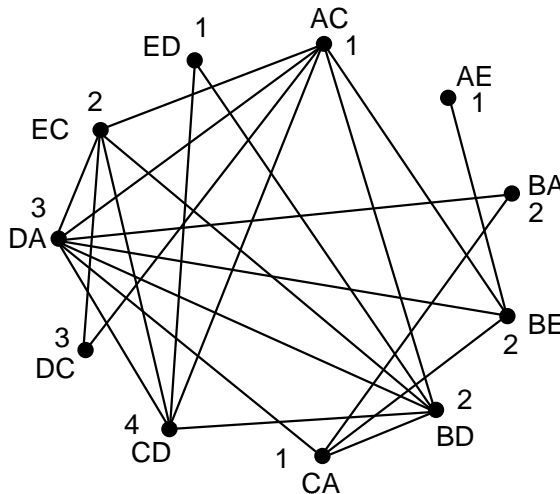
Les franchissements A-C et B-E ne peuvent naturellement pas être autorisés simultanément...

- ◆ (o) Modélisez ces incompatibilités à l'aide d'un graphe dont les sommets représentent les franchissements possibles et les arêtes les incompatibilités entre franchissements.
- ◆ (o) Proposez une coloration du graphe ainsi obtenu.
- ◆ (o) Que peut-on dire d'un ensemble de sommets ayant même couleur ?
- ◆ (oo) À quoi peut correspondre le nombre chromatique de ce graphe ?

**Solution Exercice 28.** Le graphe modélisant le carrefour est représenté ci-dessous. Son nombre chromatique est égal à 4 (il est 4-coloriable et contient un  $K_4$  regroupant les sommets AC, BD, CD et DA). Un ensemble de sommets de même couleur, par exemple ED, AC, AE et CA regroupe un ensemble de trajets pouvant s'effectuer en même temps (aucune incompatibilité). Le nombre chromatique correspond alors au nombre minimum de « cycles » que doivent respecter les feux de signalisation de ce carrefour. Pour notre exemple, nous aurons :

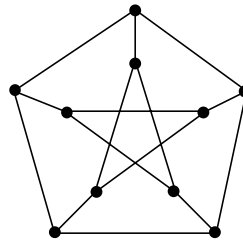
1. ED, AC, AE et CA
2. BA, BE, BD et EC
3. DC et DA
4. CD

D'autres solutions (4-colorations) sont naturellement possibles...



**Exercice 29.** On cherche à colorier le graphe ci-dessous en utilisant des entiers positifs de façon telle que deux sommets voisins ont des couleurs dont la différence, en valeur absolue, est au moins égale à trois.

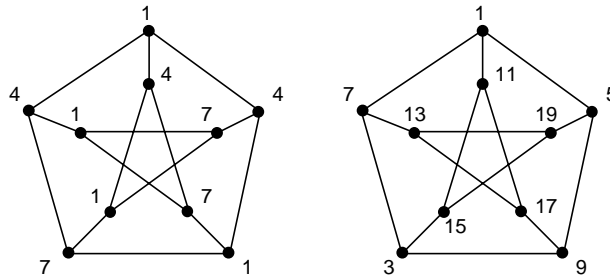
- ◆ (o) Proposez une coloration de ce graphe. Quel est le plus grand entier utilisé ?
- ◆ (o) Peut-on faire mieux ?
- ◆ (oo) Maintenant, on souhaite que, de plus, deux sommets à distance deux aient des couleurs dont la différence, en valeur absolue, est au moins égale à deux. Quelle est la meilleure coloration possible de ce graphe ?



**Solution Exercice 29.** Voici deux colorations du graphe de Petersen. La première utilise 7 comme plus grand entier, la deuxième 19...

Dans le premier cas, on peut vérifier que pour colorier ainsi un cycle à 5 sommets, la meilleure solution est 1-4-1-4-7. Ainsi, il n'est pas possible de n'utiliser que des entiers inférieurs à 7.

Dans le deuxième cas, remarquons que deux sommets quelconques sont à distance au plus 2 (on dit que le graphe est de diamètre 2). Toutes les couleurs doivent donc être distinctes et « espacées » de 2. La meilleure solution utilise ainsi les entiers impairs 1,3,5,...,19.

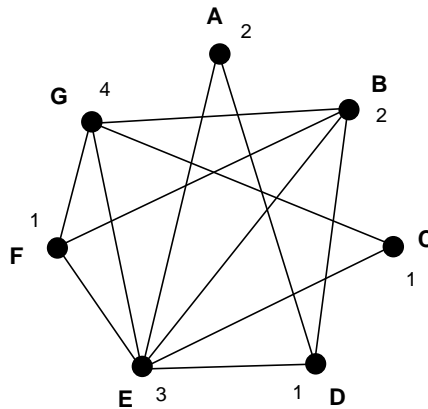


**Exercice 30. (o)** Sept élèves, désignés par A,B,C,D,E,F et G se sont rendus à la bibliothèque aujourd'hui. Le tableau suivant précise « qui à rencontré qui » (la bibliothèque étant petite, deux élèves présents au même moment se rencontrent nécessairement...).

élève	A	B	C	D	E	F	G
a rencontré	D,E	D,E,F,G	E,G	A,B,E	A,B,C,D,F,G	B,E,G	B,C,E,F

De combien de places assises doit disposer la bibliothèque pour que chacun ait pu travailler correctement au cours de cette journée ?

**Solution Exercice 30.** On reprend le « graphe des rencontres » proposé dans l'exercice 8. Il reste alors à proposer une coloration du graphe utilisant un nombre minimum de couleurs. Chaque couleur correspondra à une place assise. La coloration suivante montre que 4 places sont nécessaires... et suffisantes car le graphe contient une clique (sous-graphe complet) à 4 sommets (B-E-F-G).



**3. PROBLÈMES DE CHEMINS**

**Exercice 31.** Un *tournoi* est un graphe orienté tel que toute paire de sommets est reliée par un arc, dans un sens ou dans l'autre (mais pas dans les deux sens).

- ♦ (o) Pourquoi, selon vous, appelle-t-on de tels graphes des tournois ?
- ♦ (ooo) Montrez que si un tournoi contient un circuit de longueur  $k$ , alors il contient également des circuits de longueur  $k'$ , pour tout  $k', 3 \leq k' < k$  (une « preuve » à l'aide d'un dessin suffit...).
- ♦ (o) Dessinez un tournoi à 6 sommets ne possédant pas de circuit de longueur 4.

**Solution Exercice 31.** Dans un « tournoi », un ensemble de  $n$  individus (ou équipes) se rencontrent deux à deux, chaque rencontre se soldant par la victoire de l'un et la défaite de l'autre... Ceci peut être représenté à l'aide d'un graphe dont les sommets correspondent aux individus et tel qu'un arc va du sommet A vers le sommet B si la rencontre correspondante a vu la victoire de A sur B...

Supposons qu'un tournoi T possède un circuit  $C = x_1x_2...x_kx_1$  de longueur  $k > 3$  (en effet, pour  $k=3$ , il n'y a rien à prouver). Nous allons d'abord montrer que T possède un circuit de longueur 3.

Considérons n'importe quel sommet du circuit C,  $x_1$  par exemple. Nous affirmons qu'il existe nécessairement un arc  $x_i x_{i+1}$  dans T, avec  $1 < i < k$ , tel que  $x_1 x_i$  et  $x_{i+1} x_1$  sont des arcs (en d'autres termes,  $x_1 x_i x_{i+1} x_1$  forme un circuit). On peut exhiber un tel arc en « tournant » autour de C de la façon suivante :

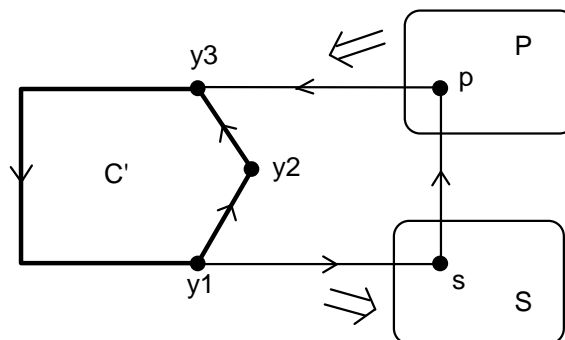
- posons  $i=2$  ; si  $x_3 x_1$  est un arc, nous avons gagné ( $x_1 x_2 x_3 x_1$  est un circuit) ; dans le cas contraire,  $x_1 x_3$  est un arc et nous pouvons poser  $i=3$ ...
- en continuant de la sorte, nous allons nécessairement trouver un arc  $x_i x_{i+1}$  ayant la propriété cherchée car  $x_k x_1$  est un arc de T (au pire, la solution sera donc l'arc  $x_{k-1} x_k$ ).

Nous allons terminer la preuve en montrant que dès que nous avons un circuit de taille  $k'$  composé de sommets de C, avec  $3 \leq k' < k-1$ , nous avons nécessairement un circuit de taille  $k'+1$ , toujours composé de sommets de C (nous montrons ainsi une propriété plus forte que celle annoncée dans l'exercice).

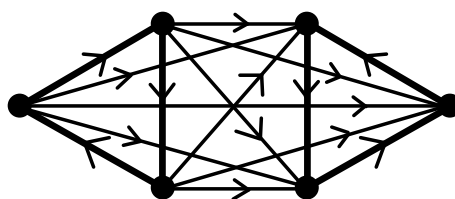
Soit donc  $C' = y_1 y_2 ... y_{k'} y_1$  un circuit composé de sommets de C et notons X l'ensemble des sommets de C non utilisés dans  $C'$ .

Supposons qu'il existe un sommet  $x$  de X qui soit successeur de certains sommets de  $C'$  et prédécesseur d'autres sommets de  $C'$ . Dans ce cas, il y a nécessairement un arc  $y_j y_{j+1}$  dans  $C'$  tel que  $y_j$  est prédécesseur de  $x$  et  $y_{j+1}$  est successeur de  $x$ . Nous avons alors un circuit de longueur  $k'+1$  :  $y_1 y_2 ... y_j x y_{j+1} ... y_{k'} y_1$  (nous avons pris ici un « raccourci » dans l'écriture car l'arc  $y_j y_{j+1}$  peut être l'arc  $y_k y_1$ ...).

Si on ne peut trouver un tel sommet  $x$ , cela signifie que l'ensemble X peut être partitionné en deux sous-ensembles S et P respectivement composés des sommets successeurs de tous les sommets de  $C'$  et des sommets prédécesseurs de tous les sommets de  $C'$ . Aucun de ces deux sous-ensembles ne peut être vide car nous savons qu'un circuit unit les sommets  $x_1, ..., x_k$ . Pour la même raison, il existe nécessairement un sommet  $s$  dans S et un sommet  $p$  dans P tel que  $sp$  est un arc dans T. (Dans le cas contraire, l'ensemble S (ou P) n'aurait que des prédécesseurs (ou des successeurs) parmi les autres sommets et le circuit initial C ne pourrait exister). Nous avons alors un circuit de longueur  $k'+1$ , donné par  $y_1 s p y_3 ... y_{k'} y_1$  (voir figure ci-dessous).

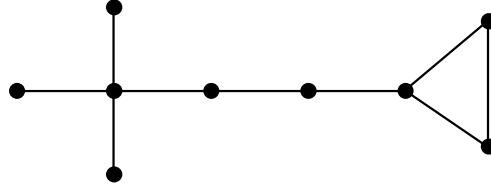


Finalement, la figure suivante montre un tournoi à 6 sommets ne possédant aucun circuit de longueur supérieure à 3 (ce tournoi est composé de 2 circuits de longueur 3 réunis par des arcs ayant tous la même direction) :

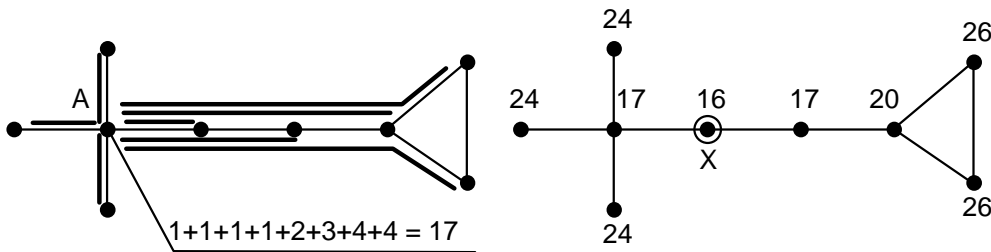


**Exercice 32. (o)** Un robot se promène sur le graphe ci-dessous. Partant d'un sommet quelconque  $s$ , appelé *sommet de stockage*, il doit déposer un cube sur chacun des autres sommets. Il possède suffisamment de cubes sur le sommet de stockage, mais ne peut transporter qu'un cube à la fois (il doit donc repasser par le sommet de stockage avant de livrer un autre cube). Calculer, pour chacun des sommets du graphe, le trajet minimum que doit parcourir le robot si ce sommet est sommet de stockage.

Quel est le « meilleur » sommet de stockage ?

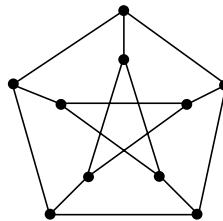


**Solution Exercice 32.** Pour un sommet donné, il est nécessaire de calculer la somme des longueurs des plus courts chemins de ce sommet aux autres sommets. La figure suivante donne cette valeur pour le sommet A, puis pour tous les sommets du graphe. Le meilleur sommet de stockage est donc le sommet X...

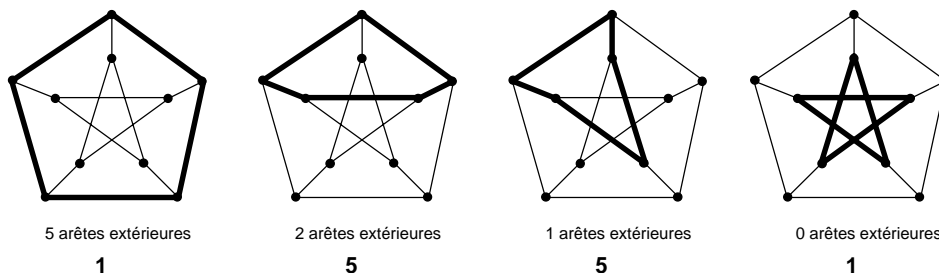


**Exercice 33.** Considérons le graphe ci-dessous.

- ◆ (oo) Combien de cycles simples (sans répétition d'arêtes) de longueur 5 ce graphe contient-il ?
- ◆ (oo) De longueur 6 ?
- ◆ (oo) De longueur 8 ?
- ◆ (oo) De longueur 9 ?

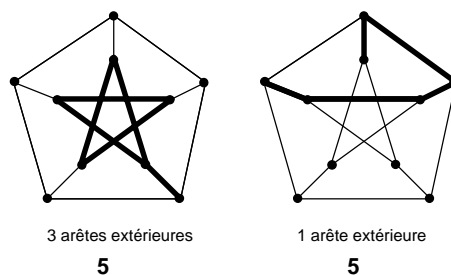


**Solution Exercice 33.** On peut essayer d'énumérer les cycles de longueur 5 par rapport au nombre d'arêtes « extérieures » qu'ils contiennent. La figure suivante montre les « schémas » de cycles correspondants et le nombre de tels cycles obtenus par rotation... Le nombre total de cycles de longueur 5 est donc 12...

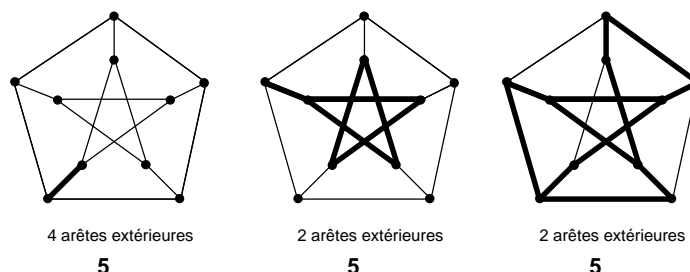


Même principe pour les cycles de longueur 6, au nombre de 10 :

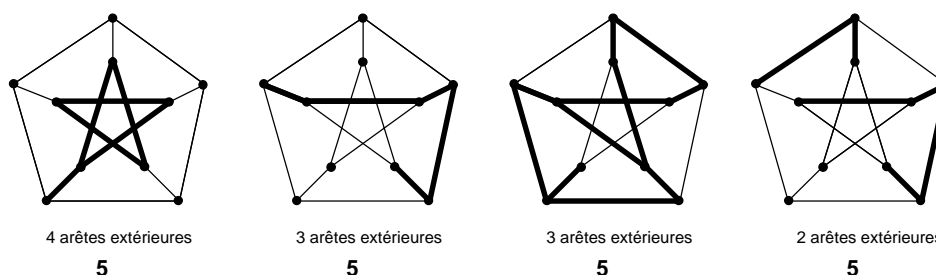




Les cycles de longueur 8, au nombre de 15 :



Et enfin les cycles de longueur 9, au nombre de 20 :



**Exercice 34. (o)** Construire le graphe orienté dont les sommets sont les entiers compris entre 1 et 24 et dont les arcs relient  $x$  à  $y$  lorsque  $x$  divise  $y$ . De plus, les arcs sont valués par le quotient  $y/x$  (ainsi, l'arc allant de 3 vers 15 a la valeur 5).

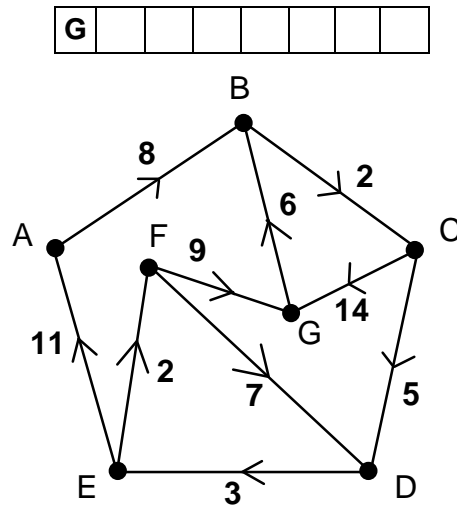
- ♦ (o) Comment reconnaît-on dans ce graphe un nombre premier ?
- ♦ (oo) Comment retrouver dans ce graphe la décomposition d'un nombre en facteurs premiers ?

**Solution Exercice 34.** Un nombre premier correspond à un sommet de degré entrant 2 puisqu'il doit être divisible par 1 et lui-même (n'oublions pas la boucle présente en chaque sommet), ou de degré entrant 1 (car 1 est premier et n'est divisible que par lui-même).

Si l'on considère un chemin allant de 1 à  $n$ , le produit des valeurs des arcs qui le composent vaut nécessairement  $n$ ... On peut alors, dans le graphe précédent, ne conserver que les arcs dont la valeur est un nombre premier et qui ne sont pas des boucles. Tout sommet  $n$  est alors tel qu'il existe un unique chemin de 1 à  $n$ , dont les valeurs d'arcs donnent la décomposition en facteurs premiers.

**Exercice 35. (o)** Remplir le tableau suivant qui, pour le graphe valué ci-dessous, donne la valeur du plus court chemin d'un sommet à un autre.

	A	B	C	D	E	F	G
A							
B							
C							
D							
E							
F							



**Solution Exercice 35.** Le calcul peut se faire directement... On obtient le tableau suivant :

	A	B	C	D	E	F	G
A	0	8	10	15	18	20	24
B	22	0	2	7	10	12	16
C	19	20	0	5	8	10	14
D	14	20	22	0	3	5	14
E	11	17	19	9	0	2	11
F	21	15	17	7	10	0	9
G	27	6	8	13	16	18	0

**Exercice 36. (o)** Exécutez l'algorithme de Dijkstra sur le graphe précédent, à partir du sommet C, puis à partir du sommet F.

**Solution Exercice 36.** À partir du sommet C, nous obtenons :

<i>Initial :</i>	<i>poids = ∞, ∞, 0, ∞, ∞, ∞, ∞</i>	<i>venant de : -, -, C, -, -, -</i>	<i>P = ∅</i>
<i>choix de C :</i>	<i>poids = ∞, ∞, 0, 5, ∞, ∞, 14</i>	<i>venant de : -, -, C, C, -, -, C</i>	<i>P = {C}</i>
<i>choix de D :</i>	<i>poids = ∞, ∞, 0, 5, 8, ∞, 14</i>	<i>venant de : -, -, C, C, D, -, C</i>	<i>P = {C, D}</i>
<i>choix de E :</i>	<i>poids = 19, ∞, 0, 5, 8, 10, 14</i>	<i>venant de : E, -, C, C, D, E, C</i>	<i>P = {C, D, E}</i>
<i>choix de F :</i>	<i>poids = 19, ∞, 0, 5, 8, 10, 14</i>	<i>venant de : E, -, C, C, D, E, C</i>	<i>P = {C, D, E, F}</i>
<i>choix de G :</i>	<i>poids = 19, 20, 0, 5, 8, 10, 14</i>	<i>venant de : E, G, C, C, D, E, C</i>	<i>P = {C, D, E, F, G}</i>
<i>choix de A :</i>	<i>poids = 19, 20, 0, 5, 8, 10, 14</i>	<i>venant de : E, G, C, C, D, E, C</i>	<i>P = {A, C, D, E, F, G}</i>
<i>choix de B :</i>	<i>poids = 19, 20, 0, 5, 8, 10, 14</i>	<i>venant de : E, G, C, C, D, E, C</i>	<i>P = {A, B, C, D, E, F, G}</i>
<i>fin de l'algorithme....</i>			

À partir du sommet F, nous obtenons :

<i>Initial :</i>	<i>poids = ∞, ∞, ∞, ∞, ∞, 0, ∞</i>	<i>venant de : -, -, -, -, -, F, -</i>	<i>P = ∅</i>
<i>choix de F :</i>	<i>poids = ∞, ∞, ∞, 7, ∞, 0, 9</i>	<i>venant de : -, -, -, F, -, F, F</i>	<i>P = {F}</i>
<i>choix de D :</i>	<i>poids = ∞, ∞, ∞, 7, 10, 0, 9</i>	<i>venant de : -, -, -, F, D, F, F</i>	<i>P = {D, F}</i>
<i>choix de G :</i>	<i>poids = ∞, 15, ∞, 7, 10, 0, 9</i>	<i>venant de : -, G, -, F, D, F, F</i>	<i>P = {D, F, G}</i>
<i>choix de E :</i>	<i>poids = 21, 15, ∞, 7, 10, 0, 9</i>	<i>venant de : E, G, -, F, D, F, F</i>	<i>P = {D, E, F, G}</i>
<i>choix de B :</i>	<i>poids = 21, 15, 17, 7, 10, 0, 9</i>	<i>venant de : E, G, B, F, D, F, F</i>	<i>P = {B, D, E, F, G}</i>
<i>choix de C :</i>	<i>poids = 21, 15, 17, 7, 10, 0, 9</i>	<i>venant de : E, G, B, F, D, F, F</i>	<i>P = {B, C, D, E, F, G}</i>
<i>choix de A :</i>	<i>poids = 21, 15, 17, 7, 10, 0, 9</i>	<i>venant de : E, G, B, F, D, F, F</i>	<i>P = {A, B, C, D, E, F, G}</i>
<i>fin de l'algorithme....</i>			

**Exercice 37.** La compagnie Europ'Air dessert différentes villes européennes. Le tableau ci-dessous donne les durées de vol entre ces différentes villes.

♦ (o) Comment déterminer le trajet le plus rapide entre deux villes ?

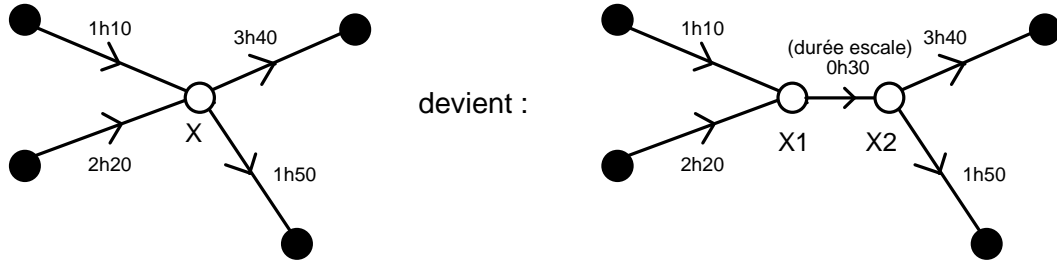
- ♦ (oo) Comment modifier la méthode précédente afin de prendre en compte la durée des escales dans les différentes villes ?

	<b>A</b>	<b>B</b>	<b>C</b>	<b>D</b>	<b>E</b>
<b>A</b>		1h30	2h00		2h15
<b>B</b>	1h40				3h00
<b>C</b>	2h20			2h55	
<b>D</b>			3h20		1h05
<b>E</b>	2h25	3h10	1h10		

**Solution Exercice 37.** Il suffit de dessiner le graphe dont les sommets sont les villes et les arcs les dessertes de la compagnie, en valuant chaque arc par la durée du vol correspondant. Un algorithme de plus court chemin permet alors de résoudre le problème.

Pour prendre en compte les durées d'escale, deux méthodes sont possibles :

1. Modifier l'algorithme précédent, en incluant dans le calcul du coût d'un chemin les durées d'escale...
2. Transformer le graphe selon le principe décrit ci-dessous. L'algorithme reste alors le même, en choisissant « correctement » les sommets de départ et d'arrivée (sans escale) : on part donc de Départ2 et on arrive en Arrivée1...



#### 4. PROBLÈMES D'ORDONNANCEMENT

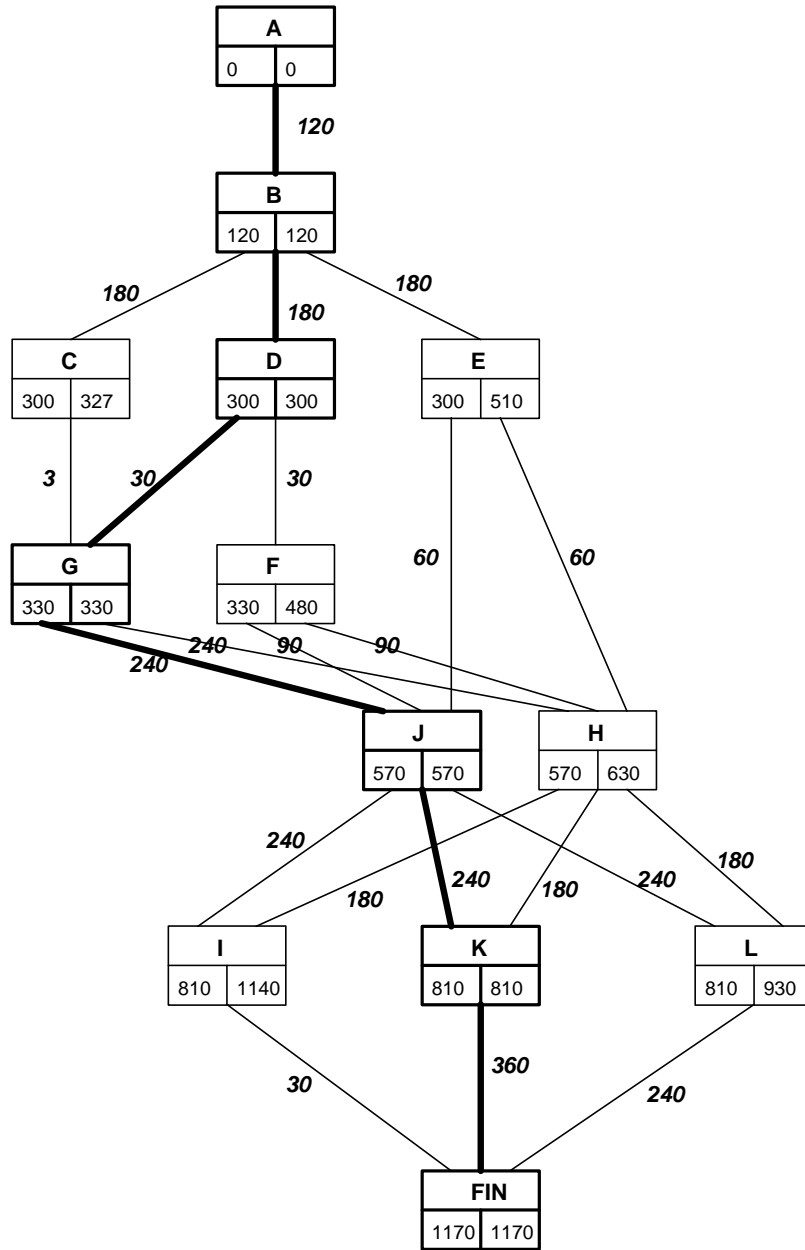
**Exercice 38. (o)** La mise en exploitation d'un nouveau gisement minier demande la réalisation d'un certain nombre de tâches. Le tableau suivant représente ces différentes tâches avec leurs relations d'antériorité.

Tâche	Description	Durée (en jours)	Tâches antérieures
<b>A</b>	obtention d'un permis d'exploitation	120	-
<b>B</b>	établissement d'une piste de 6 km	180	A
<b>C</b>	transport et installation à pied d'œuvre de 2 sondeuses	3	B
<b>D</b>	création de bâtiments provisoires pour le bureau des plans, le logement des ouvriers sondeurs	30	B
<b>E</b>	goudronnage de la piste	60	B
<b>F</b>	adduction d'eau	90	D
<b>G</b>	campagne de sondage	240	C,D
<b>H</b>	forage et équipement de trois puits	180	E,F,G
<b>I</b>	transport et installation au fond du matériel d'exploitation	30	J,H
<b>J</b>	construction de bureaux et logements, ouvriers et ingénieurs	240	E,F,G
<b>K</b>	traçage et aménagement du fond	360	J,H
<b>L</b>	construction d'une laverie	240	J,H

- ♦ Déterminez les dates au plus tôt et les dates au plus tard de chaque tâche.
- ♦ Déterminez le temps minimum de réalisation de l'ensemble.

(On pourra utiliser ici la méthode des potentiels métra (MPM), puis la méthode PERT).

**Solution Exercice 38.** En utilisant la méthode MPM, nous obtenons le graphe ci-dessous. Les dates au plus tôt et au plus tard sont calculées « par niveaux »... Les tâches critiques, et le chemin critique sont indiqués en gras. Le temps minimum de réalisation de l'ensemble est lisible sur le sommet FIN : 1170 jours.



**Exercice 39. (o)** Tout ensemble de tâches peut faire l'objet d'un exercice similaire : construction d'un logement, rénovation d'une salle de bains, révisions pour le baccalauréat, etc.

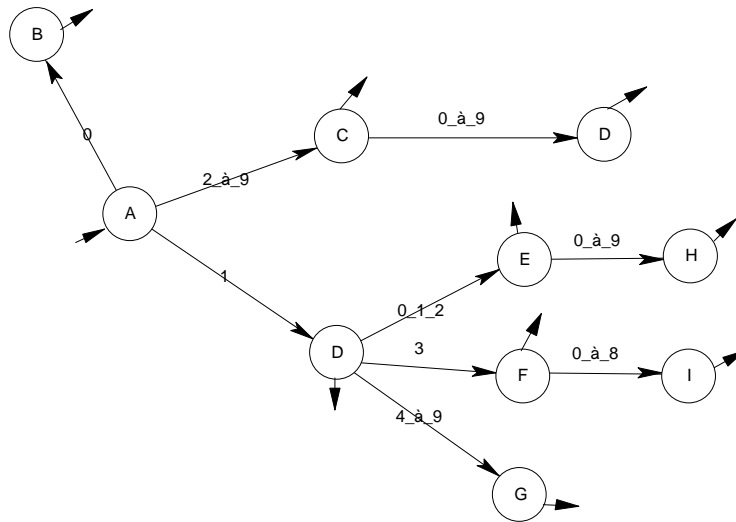
**Solution Exercice 39.** La solution dépendra tout naturellement du problème considéré ;-)

## 5. PROBLÈMES D'AUTOMATES

### 5.1. automates simples

**Exercice 40. (oo)** Proposez un automate déterministe permettant de reconnaître un entier positif inférieur ou égal à 138.

**Solution Exercice 40.** L'automate suivant reconnaît les entiers souhaités en écriture normalisée. Toutes les transitions non représentées vont vers un états puits.

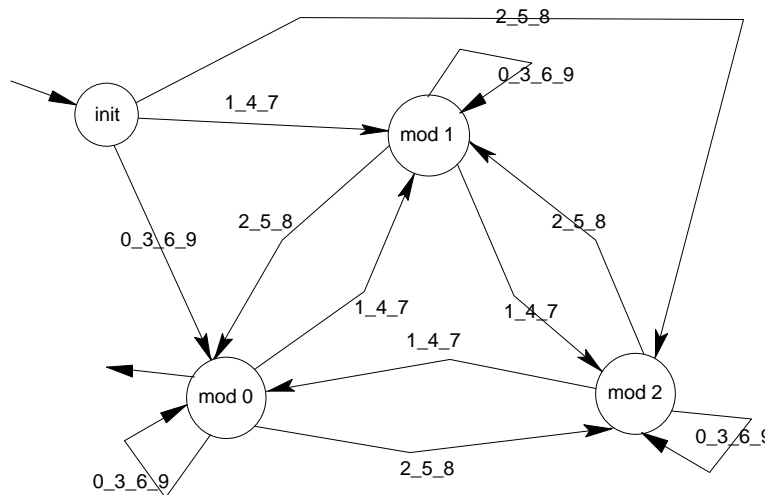


**Exercice 41.** Proposez des automates déterministes permettant de reconnaître :

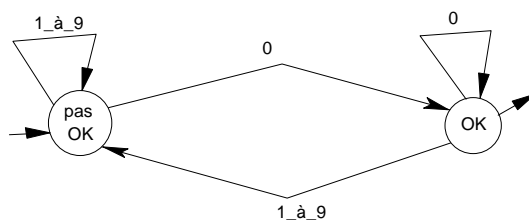
- ◆ (oo) les multiples de 3,
- ◆ (oo) les multiples de 9,
- ◆ (o) les multiples de 10,
- ◆ (oo) les multiples de 100,
- ◆ (oo) les multiples de 1000,
- ◆ (oo) les multiples de 50,
- ◆ (oo) les multiples de 25,
- ◆ (oo) les multiples de 250,
- ◆ (oo) les multiples de 6

**Solution Exercice 41.** Voici les automates correspondants. Toutes les transitions non représentées vont vers un états puits.

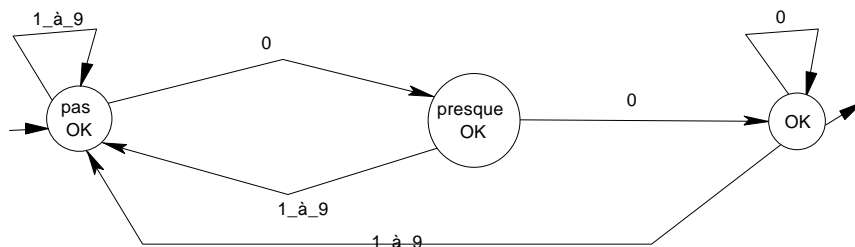
- ◆ les multiples de 3 : aucune difficulté particulière, on raisonne « modulo 3 »...



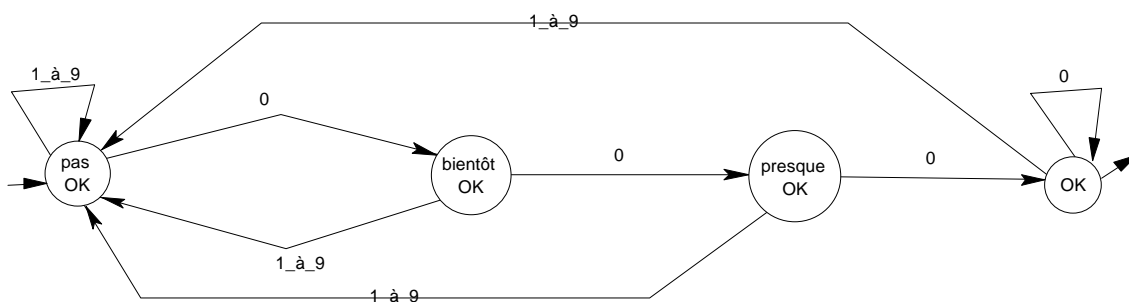
- ◆ les multiples de 9 : il suffit de généraliser l'exemple précédent... Un état « init » et 9 états, « mod 0 » à « mod 8 ». On obtient ainsi un « graphe complet » à 9 sommets (non dessiné ici... ;-).
- ◆ les multiples de 10 : il faut reconnaître les entiers terminés par 0... La difficulté réside dans le fait que l'automate doit rester déterministe. Ainsi, lorsqu'on lit un 0, on va dans l'état d'acceptation, quitte à en revenir dès qu'un chiffre différent de 0 apparaît...



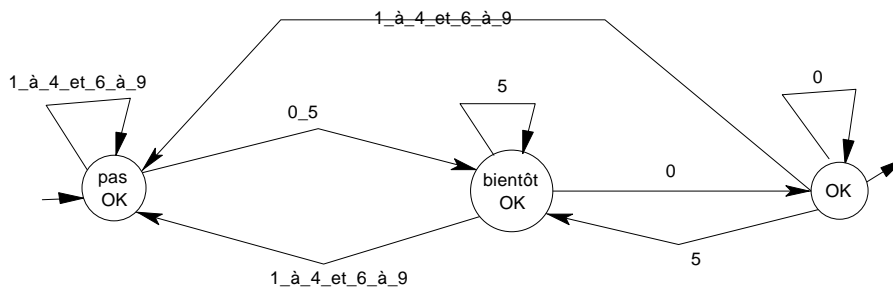
- ◆ les multiples de 100 : même principe, avec deux zéros pour finir...



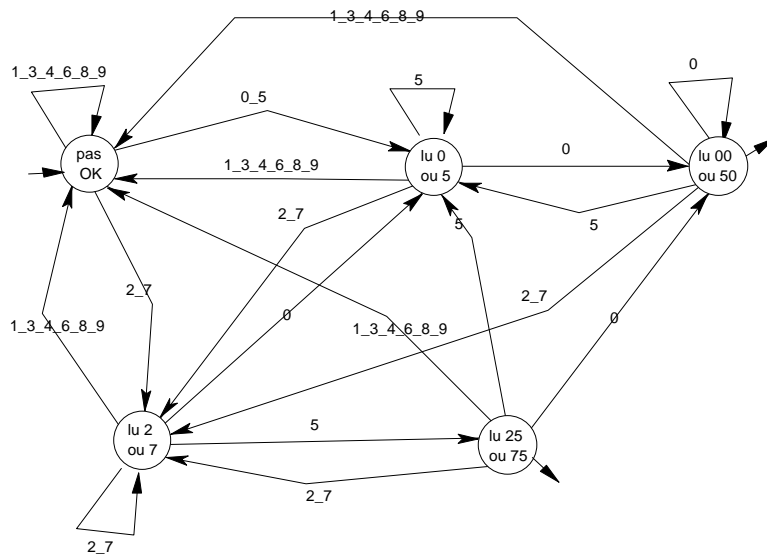
- ◆ les multiples de 1000 : *one more time... and one more zero...*



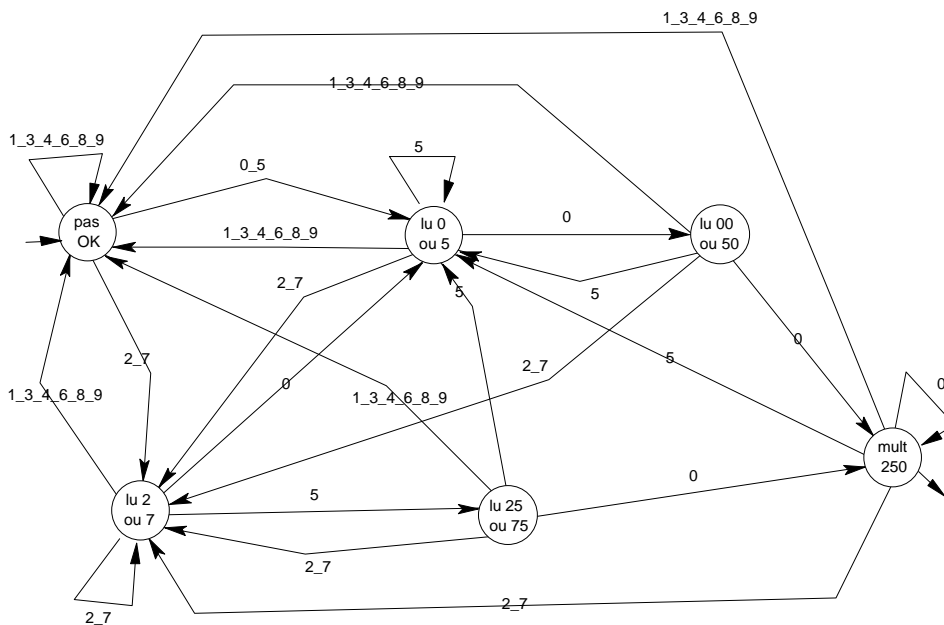
- ◆ les multiples de 50 : cette fois, les entiers doivent être terminés par 00 ou 50.



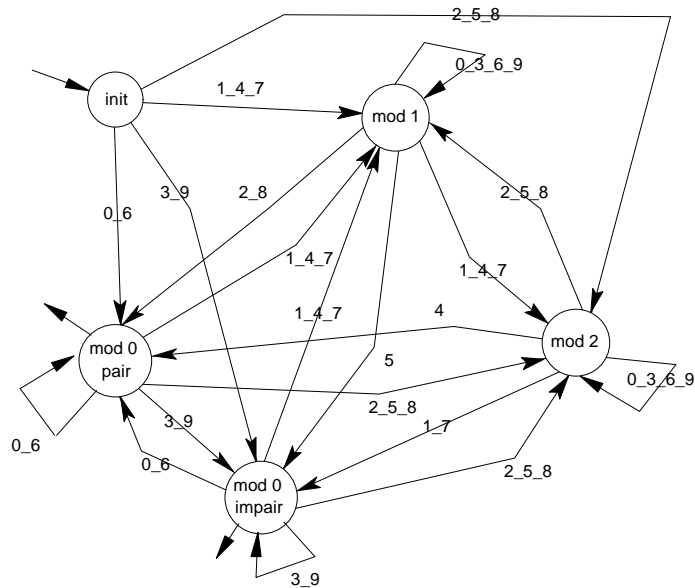
- ◆ les multiples de 25 : cette fois, les entiers doivent être terminés par 00, 25, 50 ou 75. Il faut bien penser à la « signification » des états de l'automate...



- ◆ les multiples de 250 : cette fois, les entiers doivent être terminés par 000, 250, 500 ou 750. Même principe que pour le précédent...

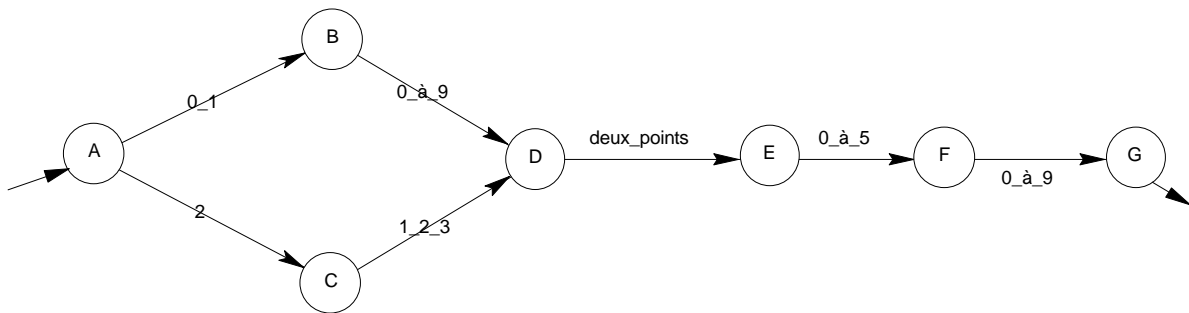


- ◆ les multiples de 6 : ils sont multiples de trois... et pairs ! On peut ainsi partir de l'automate reconnaissant les multiples de trois et le « modifier » afin de séparer les pairs et les impairs sur l'état final (en séparant également les transitions arrivant et sortant de cet état)...



**Exercice 42. (o)** Proposez un automate déterministe permettant de reconnaître un horaire donné sous la forme 12:15.

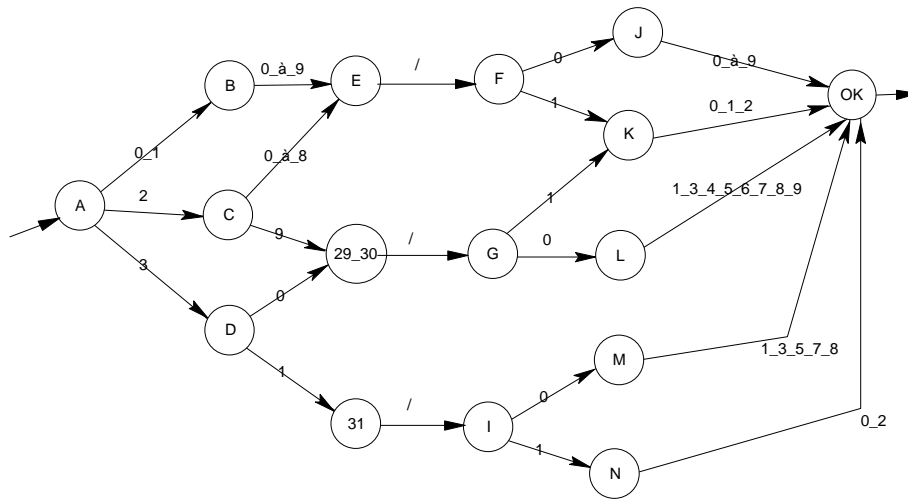
**Solution Exercice 42.** L'automate suivant reconnaît les heures sous une forme « normalisée » (03:07 pour trois heures et 7 minutes). Le premier symbole doit être 0, 1 ou 2. Si c'est 2, alors seuls 1, 2 ou 3 sont autorisés ensuite. Les minutes sont sur deux chiffres et doivent commencer par 0, 1, 2, 3, 4 ou 5...



**Exercice 43. (oo)** Proposez un automate déterministe permettant de reconnaître une date donnée sous la forme 03/02 (pour le 3 février), en se limitant à l'année en cours...

**Solution Exercice 43.** Le mois de février 2002 comportant 28 jours, nous obtenons l'automate ci-dessous. Il est nécessaire de distinguer les jours 29 ou 30 (interdits en février) et les jours 31. Ces jours aboutissent respectivement dans les états « 29\_30 » et « 31 ». Il suffit alors de ne retenir par la suite que les mois où ces jours sont autorisés...





**5.2. automates avec actions**

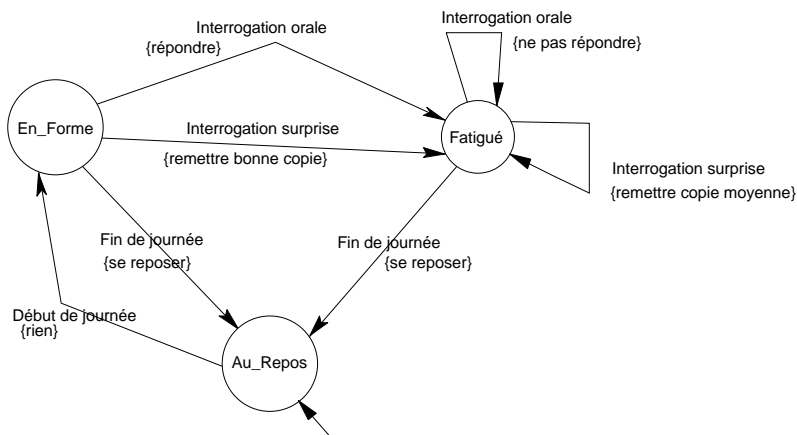
**Exercice 44. (o)** Un élève peut être considéré comme un système très particulier : lorsqu'il est interrogé oralement par un enseignant, il répond s'il est en forme et ne répond pas s'il est fatigué. Après avoir été interrogé, un élève en forme devient fatigué. Lorsqu'une interrogation surprise se présente, l'élève en forme remet une bonne copie, l'élève fatigué une copie plutôt moyenne. Après une interrogation surprise, tous les élèves sont fatigués pour le reste de la journée ! Le soir, tous les élèves se reposent et arrivent en forme le lendemain matin.

Modélisez cette situation à l'aide d'un automate avec actions (on pourra dans un premier temps établir la liste des événements « subis » par un élève et la liste des actions réalisées par celui-ci en réponse à ces événements...)

**Solution Exercice 44.** Les éléments de cet automate seront les suivants :

- événements : interrogation orale, interrogation surprise, fin de journée, début de journée.
- actions : répondre, ne pas répondre, remettre une bonne copie, remettre une copie moyenne, se reposer
- états : en forme, fatigué, au repos

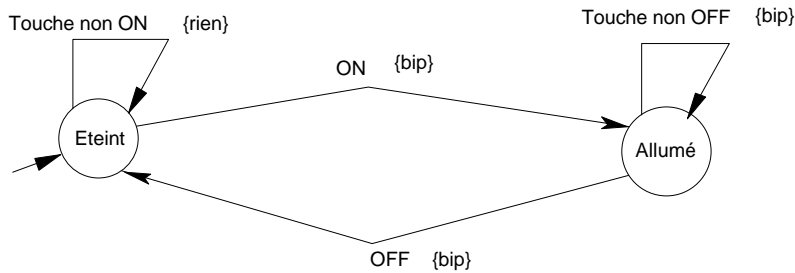
L'automate peut alors être représenté ainsi (on suppose qu'à sa « naissance », l'élève est au repos...). Les actions sont données entre accolades.



**Exercice 45. (o)** Un téléphone portable est finalement un objet assez simple... Quand vous le sortez de son emballage, il est éteint et toutes les touches sont sans effet... sauf la touche « ON », qui émet un « bip » sympathique et voici votre téléphone allumé... Dorénavant, toutes les touches émettent un « bip » (c'est amusant ;-)... même la touche « OFF » qui, pourtant, éteint votre téléphone...

- ♦ Modélisez le fonctionnement de ce téléphone portable à l'aide d'un automate avec actions.

**Solution Exercice 45.** Aucune difficulté particulière. Deux états, « éteint » et « allumé » permettent de distinguer les réactions du téléphone aux événements que sont les touches...  
L'automate correspondant est le suivant :

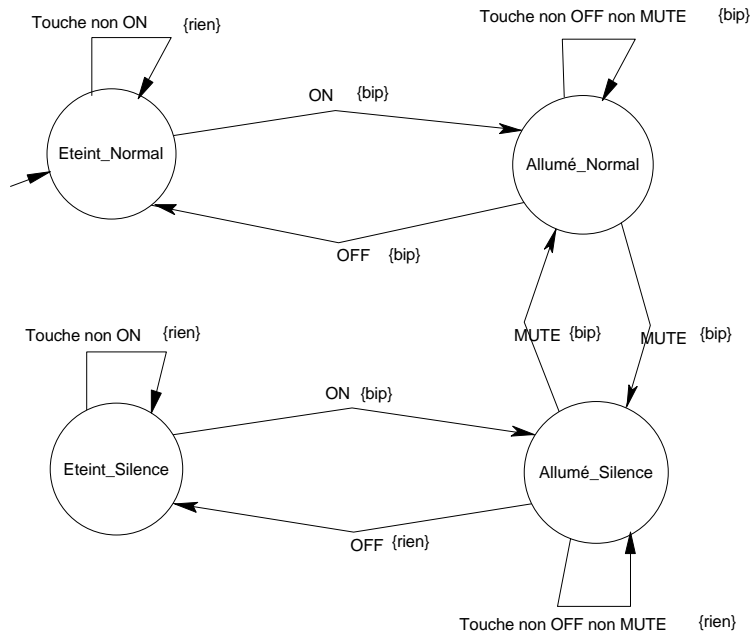


**Exercice 46. (oo)** On n'arrête pas le progrès... Votre téléphone est également muni d'une touche « MUTE » qui, naturellement, n'a aucun effet si votre téléphone est éteint, mais qui peut faire passer votre téléphone (allumé en mode normal) en mode silencieux (après avoir émis cependant un « bip » ;-). En mode silencieux, les touches n'émettent plus de « bip », sauf la touche « MUTE » qui, du coup, fait repasser votre téléphone en mode normal... Là où l'on prend vraiment conscience du progrès accompli, c'est que lorsque vous rallumez un téléphone qui a été éteint en mode normal, il se rallume en mode normal, alors que s'il a été éteint en mode silencieux, il se rallume en mode silencieux (en émettant cependant un « bip »...). Étonnant, non ?

◆ Proposez un nouvel automate avec actions pour ce téléphone « moderne »...

**Solution Exercice 46.** Cette fois, il est nécessaire de distinguer les états de fonctionnement selon le mode « normal » ou « silencieux »... De la même façon, on distinguera les états d'arrêt, selon que le téléphone a été arrêté en mode « normal » ou « silencieux »...

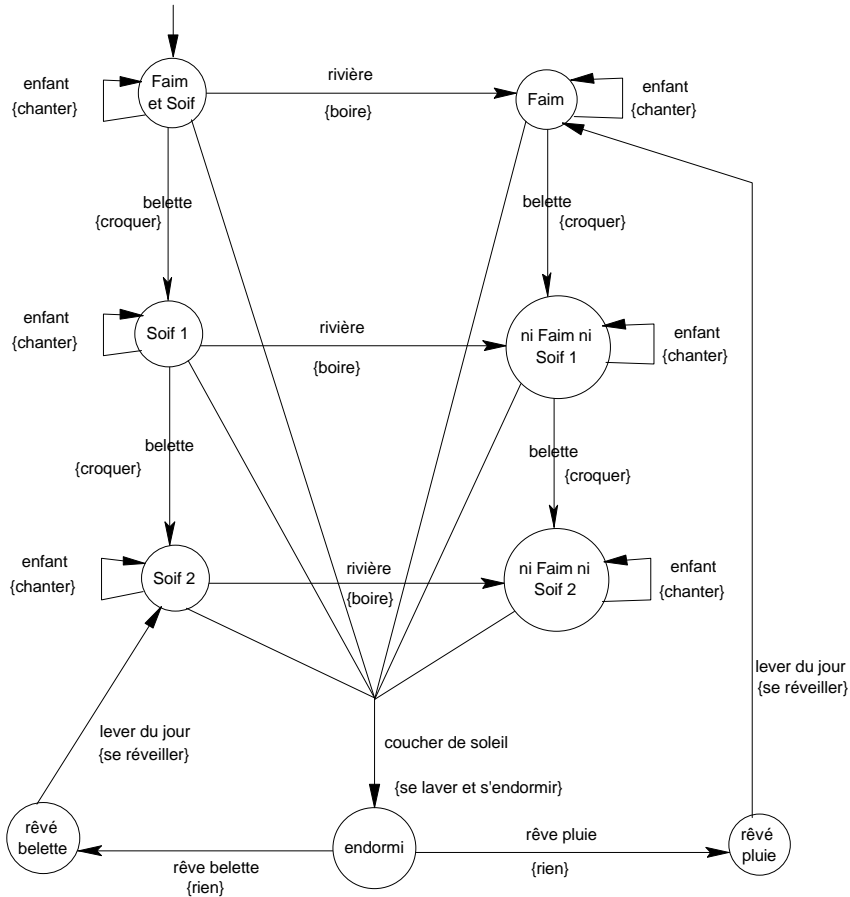
L'automate est alors le suivant :



**Exercice 47. (ooo)** Le Kidor-Dyn est un animal fabuleux que peu d'entre nous ont eu le loisir de croiser sur leur chemin... À sa naissance (vers 7h00 du matin), le Kidor-Dyn a faim et soif. Lorsqu'il passe près d'une rivière, il boit, et cela lui suffit pour la journée. Lorsqu'il croise une belette, il la croque, et cela lui suffit pour la journée. Il peut cependant, au hasard des rencontres, croquer une seconde belette mais jamais trois dans la même journée. Lorsque le soleil se couche, le Kidor-Dyn fait sa toilette et s'endort, qu'il ait croisé ou pas de rivière ou de belette dans la journée... Le lendemain, il a à nouveau faim et soif, à moins qu'il n'ait rêvé, au cours de la nuit, de pluie (auquel cas il n'a pas soif) ou de belette (auquel cas il n'a pas faim). Par ailleurs, chaque fois qu'un enfant passe à proximité de lui dans la journée, le Kidor-Dyn chante une chanson...

- ◆ Modéliser la vie trépidante du Kidor-Dyn à l'aide d'un automate avec actions.

**Solution Exercice 47.** Nous commençons par énumérer les événements et les actions... Les états sont alors nécessités par le fait que notre « animal » peut avoir des réactions distinctes aux événements...  
 événements : rivière, belette, enfant, coucher du soleil, lever du jour, rêve pluie, rêve belette.  
 actions : boire, croquer, chanter, se laver et s'endormir, se réveiller, rien (lorsque l'événement « rêve » survient, on subit l'événement...).  
 états : faim et soif, faim, soif 1, soif 2, ni faim ni soif 1, ni faim ni soif 2, endormi, rêvé belette, rêvé pluie.  
 Comme pour l'exercice du téléphone, il faut mémoriser les différents états de « réveil », selon le rêve effectué, afin de se retrouver dans le bon état au lever du jour... Par ailleurs, il est nécessaire de « compter » les belettes, c'est-à-dire de distinguer les états où l'on a croqué une belette des états où l'on en a croqué deux...  
 L'automate correspondant est alors le suivant :



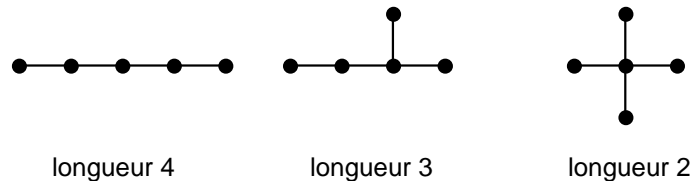
## 6. PROBLÈMES DIVERS

### 6.1. Arbres, arbres couvrants

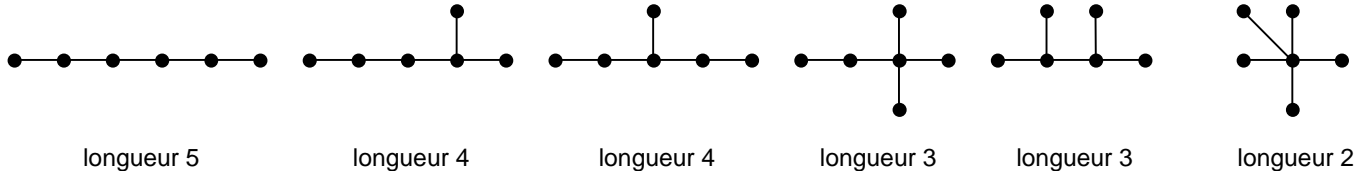
**Exercice 48.** (oo) Combien d'arbres différents existe-t-il avec 5 sommets ? avec 6 sommets ? avec 7 sommets ?

**Solution Exercice 48.** Il est possible de classer ces différents arbres selon le nombre de feuilles (sommets sans fils) par exemple. Une façon de procéder peut-être plus « visuelle » consiste à les classer selon la longueur du plus long chemin dans l'arbre (on cherche ensuite à rajouter les « sommets manquants », sans les raccrocher aux extrémités du chemin pour ne pas le rallonger...). Nous obtenons ainsi :

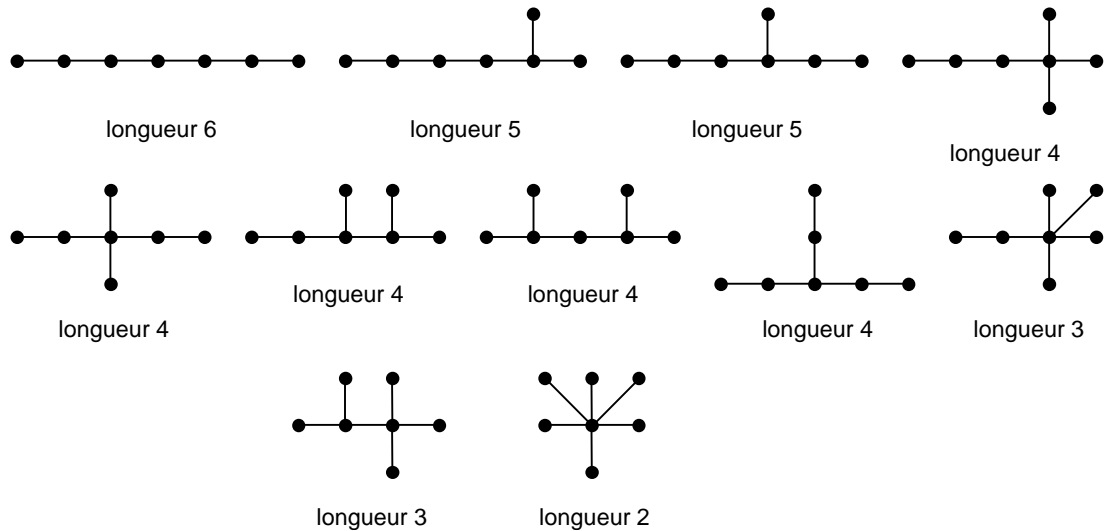
- 3 arbres à 5 sommets :



• 6 arbres à 6 sommets :

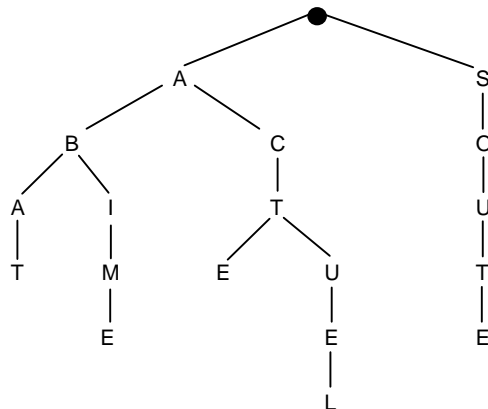


• 11 arbres à 7 sommets :



**Exercice 49.** L'arbre ci-dessous code un « dictionnaire » composé des cinq mots ABAT, ABIME, ACTE, ACTUEL et SOUTE.

- ♦ (o) On souhaite inclure dans ce dictionnaire le mot SORT. Que devient l'arbre ?
- ♦ (oo) On souhaite maintenant inclure le mot SOU. Or, le mot SOUTE étant déjà présent, le mot SOU est « déjà construit » dans cet arbre... Comment distinguer alors le mot SOU du mot ABI qui, lui, n'appartient pas au dictionnaire ?
- ♦ (o) Expliquez comment, à l'aide d'un tel arbre, il est possible de déterminer si un mot donné appartient ou non au dictionnaire.



**Solution Exercice 49.** Pour rajouter le mot SORT, il suffit de prolonger l'arbre à l'aide d'une nouvelle « branche » (voir figure (a)).

Le mot SOU est « déjà présent » dans l'arbre... simplement, il se termine sur un sommet *interne* de l'arbre, et non sur une feuille. Il est donc nécessaire de distinguer, parmi les sommets internes (non feuilles) de l'arbre, ceux qui correspondent à un mot du dictionnaire... Il suffit par exemple pour cela de « marquer » (ou colorier) ces sommets à l'aide d'une marque particulière... Il est également possible (mais non nécessaire) de marquer les feuilles de l'arbre... (voir figure (b)).

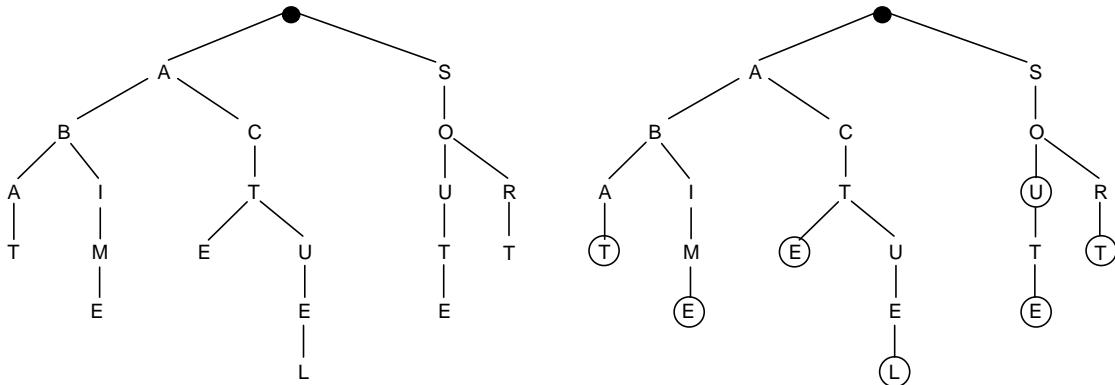


figure (a)

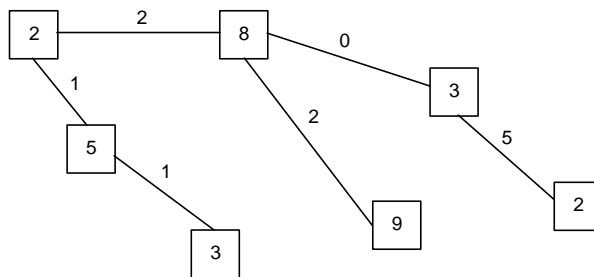
figure (b)

Pour rechercher un mot dans un tel arbre, il suffit de partir de la racine et de « chercher » les lettres du mot une à une. Lorsqu'on est sur un sommet et que l'on cherche une lettre, on parcourt les fils de ce sommet (les fils sont triés de gauche à droite par ordre alphabétique). Si la lettre n'est pas présente, le mot n'est pas dans le dictionnaire. Dans le cas contraire, on rejoint le fils trouvé et l'on passe à la lettre suivante... Si l'on trouve la dernière lettre du mot, et que le sommet correspondant est marqué, le mot est bien présent dans le dictionnaire.

**Exercice 50. (o)** Le schéma ci-dessous représente la carte d'un groupe de villages. Les sommets sont des villages et les arêtes des chemins reliant les villages. Pour chaque village, la valeur du sommet correspond au nombre d'enfants du village en âge d'être scolarisé. Pour chaque chemin reliant deux villages, la valeur correspond au nombre de rivières que doivent traverser à la nage les piétons empruntant ce chemin.

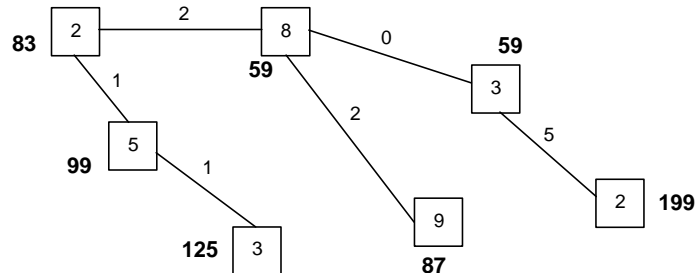
On souhaite choisir l'un de ces villages pour y construire une école. Le critère de choix principal est la sécurité : on veut minimiser le nombre de traversées à la nage !...

- ◆ Dans quel village doit-on construire cette école ?



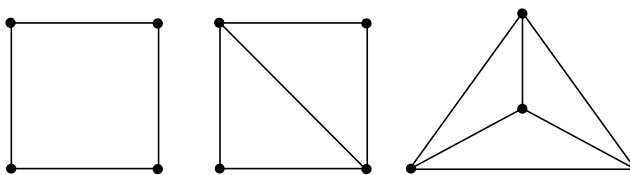
**Solution Exercice 50.** Il est possible, pour chacun des sommets du graphe, de calculer le nombre de traversées à la nage nécessaires si l'école est implantée dans le village correspondant... On obtient alors :

$$(2 \times 8 + 2 \times 3 + 7 \times 2 + 4 \times 9 + 1 \times 5 + 2 \times 3 = 83)$$



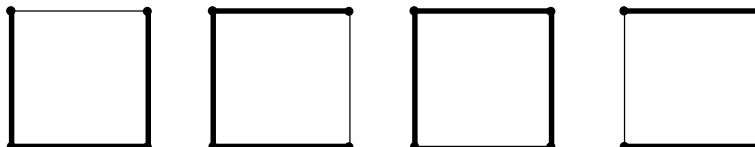
Nous avons ainsi le choix entre deux villages qui obtiennent le meilleur score (59)...

**Exercice 51. (oo)** Combien d'arbre couvrants différents les graphes suivants possèdent-ils ?

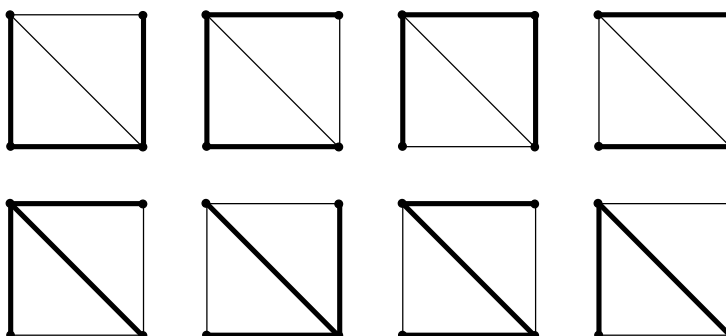


**Solution Exercice 51.** Il suffit de prendre le temps de les énumérer...

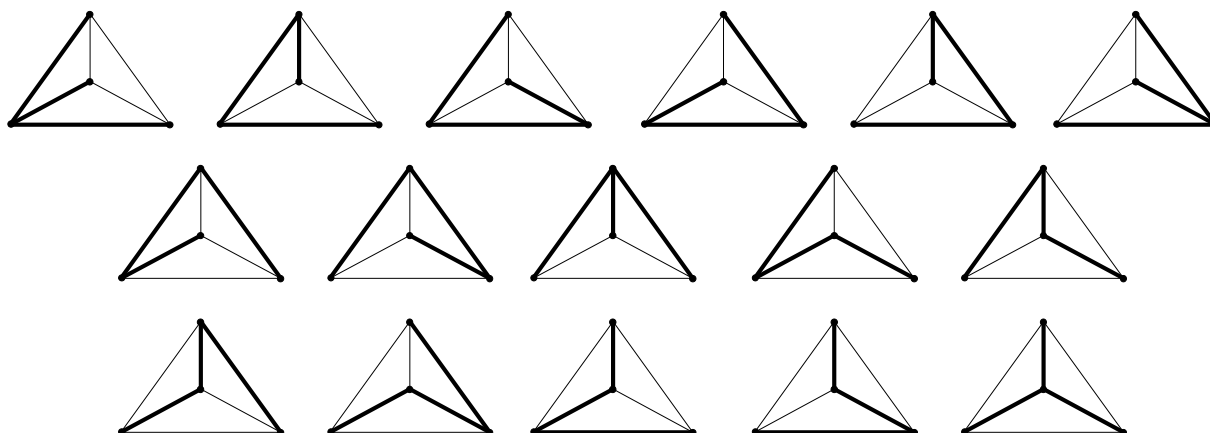
- nous obtenons 4 arbres couvrants pour le premier graphe :



- 8 arbres couvrants pour le deuxième graphe :



- et 16 arbres couvrants pour le troisième graphe :



## 6.2. Graphes hamiltoniens

**Exercice 52. (ooo)** Un groupe de 9 élèves se réunit chaque jour autour d'une table ronde. Combien de jours peuvent-ils se réunir si l'on souhaite que personne n'ait deux fois le même voisin ?

Même question avec 10 élèves, 11 élèves,  $n$  élèves...

Toujours avec 9 élèves, mais cette fois avec 2 tables, l'une de 4 places, l'autre de 5... Avec trois tables de 3 places ?...

**Solution Exercice 52.** Désignons par  $1, 2, \dots, 9$  les 9 personnes et considérons le graphe complet  $K_9$  à 9 sommets. Une composition de la table correspond à un cycle hamiltonien de  $K_9$  (un cycle passant une et une seule fois par chaque sommet). Si deux compositions de table correspondent à deux cycles ayant une arête commune, cela signifie que les deux personnes reliées par cette arête se retrouvent côte à côte... Ainsi, le problème revient à déterminer le nombre de cycles hamiltoniens disjoints de  $K_9$ ...

Le graphe  $K_9$  possédant  $9 \times 8 / 2 = 36$  arêtes et chaque cycle utilisant 9 arêtes, ce nombre est au maximum égal à 4... Il vaut effectivement 4, comme le prouvent les 4 cycles hamiltoniens disjoints suivants :

1,2,3,9,4,8,5,7,6 — 1,3,4,2,5,9,6,8,7 — 1,4,5,3,6,1,7,9,8 — 1,5,6,4,7,2,8,1,9

Remarque. Ces cycles hamiltoniens ne sont pas obtenus « par hasard » (c'est également le cas pour la solution de l'exercice 10). En les observant attentivement, on peut remarquer qu'ils sont construits de la façon suivante :

premier cycle : 1,2,3,N,4,N-1,5,N-2,6,N-3,etc., où N représente le nombre total de sommets...  
deuxième cycle : on conserve le « 1 » et on ajoute 1 aux autres éléments, avec la règle  $N+1 = 2$ .  
chaque cycle est alors obtenu du précédent en conservant le « 1 » et en ajoutant 1 aux autres éléments (toujours avec la règle  $N+1=2$ ...)

Avec 10 élèves, nous avons  $10 \times 9 / 2 = 45$  arêtes, soit 4 cycles hamiltoniens disjoints possibles (chacun utilisant 10 arêtes). Avec 11 élèves, nous avons  $11 \times 10 / 2 = 55$  arêtes, soit 5 cycles hamiltoniens disjoints possibles (chacun utilisant 11 arêtes). Dans les deux cas, il est possible de trouver les cycles correspondants :  
pour 10 :

1,2,3,10,4,9,5,8,6,7 — 1,3,4,2,5,10,6,9,7,8 — 1,4,5,3,6,2,7,10,8,9 — 1,5,6,4,7,3,8,2,9,10

Lorsque N est pair, comme 10 ici, les arêtes restantes forment un couplage (elles sont non incidentes). En effet, il nous reste ici les arêtes 1-6, 2-10, 3-9, 4-8, 5-7 (voir également la solution de l'exercice 10).

pour 11 :

1,2,3,11,4,10,5,9,6,8,7 — 1,3,4,2,5,11,6,10,7,9,8 — 1,4,5,3,6,2,7,11,8,10,9  
1,5,6,4,7,3,8,2,9,11,10 — 1,6,7,5,8,4,9,3,10,2,11

En règle générale, k solutions sont possibles pour  $n = 2k+1$  ou  $n = 2k+2$  (plus un couplage pour  $n = 2k+2$ ).

Revenons au cas des 9 personnes, cette fois avec une table de 4 places et une table de 5 places... Il s'agit toujours de décomposer le graphe complet en ensembles disjoints de 9 arêtes, mais cette fois, chaque ensemble doit correspondre à un cycle de 4 arêtes + un cycle de 5 arêtes. Avec trois tables de 3, chaque ensemble doit correspondre à trois tirangles...

Le nombre maximum de solutions discuté précédemment reste donc valable dans ces deux situations : nous aurons au plus  $36 / 9 = 4$  solutions... Làencore, on peut trouver 4 solutions :  
une table de 4 et une table de 5 :

Je n'ai pas de solution « sous la main », mais je publierai la première solution qui me parviendra... ;-)

trois tables de 3 :

(1,2,3)(4,5,6)(7,8,9) — (1,4,7)(2,5,8)(3,6,9) — (1,5,9)(2,6,7)(3,4,8) — (1,6,8)(2,4,9)(3,5,7)

Notons que pour chacune des situations de cet exercice, plusieurs solutions sont possibles...

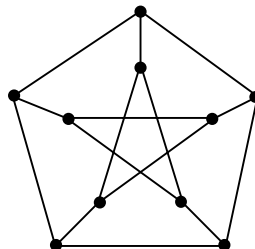
**Exercice 53. (oo)** Cette fois, ces réunions quotidiennes concernent un groupe de 12 élèves, 6 filles et 6 garçons. On souhaite toujours que personne n'ait deux fois le même voisin, mais, cette fois, on souhaite également que chaque fille soit entourée de deux garçons... Combien de jours peuvent-ils se réunir ?

**Solution Exercice 53.** L'idée de base est la même que pour l'exercice précédent, mais cette fois, du fait de l'alternance imposée fille / garçon, on raisonne sur le graphe biparti complet  $K_{6,6}$  (six filles et six garçons)... Ce graphe comprend  $6 \times 6 = 36$  arêtes, et chaque cycle hamiltonien en nécessite 12. Il y a donc au maximum 3 solutions. En fait, trois solutions sont effectivement possibles ( $f_i$  représente la i-ème fille,  $g_i$  le i-ème garçon), par exemple :

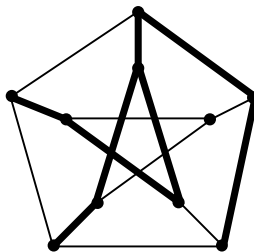
(  $f_1, g_1, f_2, g_2, f_3, g_3, f_4, g_4, f_5, g_5, f_6, g_6$  ) — (  $f_1, g_3, f_2, g_4, f_3, g_5, f_4, g_6, f_5, g_1, f_6, g_2$  ) — (  $f_1, g_5, f_2, g_6, f_3, g_1, f_4, g_2, f_5, g_3, f_6, g_4$  )

**Exercice 54.** Est-il possible de parcourir le graphe ci-dessous

- ◆ (o) en passant une et une seule fois par chacun des sommets et en revenant à son point de départ ?
- ◆ (o) sans revenir nécessairement à son point de départ ?

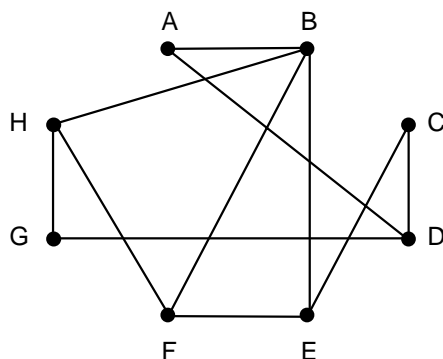


**Solution Exercice 54.** Le graphe en question (connu sous le nom de graphe de Petersen) n'est pas hamiltonien. On peut par contre trouver un chemin hamiltonien, comme l'indique la figure ci-dessous.



**Exercice 55.** Un groupe de huit personnes se retrouve pour dîner. Le graphe ci-dessous précise les « incompatibilités d'humeur » entre les personnes de ce groupe (une arête reliant deux personnes indique que celles-ci s'entendent très modérément...).

- ◆ (o) Proposez un plan de table (la table est ronde) pour ce groupe en évitant de placer côte à côte deux personnes « incompatibles ».
- ◆ (oo) Combien y a-t-il de solutions possibles ?



**Solution Exercice 55.** Il s'agit cette fois de trouver des cycles hamiltoniens dans le complémentaire du graphe. En voici un : B,C,H,A,F,G,E,D.  
 Que dire du nombre total de solutions ? il suffit de prendre le temps de les énumérer (ce que je n'ai pas encore fait ;-)...

**7. BIBLIOGRAPHIE**

BERGE, Claude. *Graphes et Hypergraphes*. éd. Dunod, Paris (1970).

GONDRAN, Michel, et MINOUX, Michel. *Graphes et Algorithmes*. éd. Eyrolles, Paris (1979).

LABELLE, Jacques. *Théorie des graphes*. éd. Modulo, Québec (1981).

ROY, Bernard. *Algèbre moderne et théorie des graphes orientées vers les sciences économiques et sociales*. Tome 1 : Notions et résultats fondamentaux. éd. Dunod, Paris (1969).

ROY, Bernard. *Algèbre moderne et théorie des graphes orientées vers les sciences économiques et sociales*. Tome 2 : Applications et problèmes spécifiques. éd. Dunod, Paris (1970).